

# 地理歴史・公民・数学①

(1～58ページ)

## 注 意

1. 試験開始の合図があるまで、問題用紙を開いてはいけません。
2. この問題用紙には、次の5科目の問題が収められています。
  - 政治・経済 (1～12ページ)
  - 日本史 (14～26ページ)
  - 世界史 (28～37ページ)
  - 地 理 (38～50ページ)
  - 数 学 ① (52～58ページ)
3. 5科目の中から1科目を選択し、解答は解答用紙にマークしなさい。解答用紙は5科目共通です。解答用紙にはマーク式解答欄の番号が **1** ～ **75** までありますが、使用しない解答欄も含まれています。
4. 解答用紙に受験番号・氏名・選択科目を記入しなさい。
 

受験番号と選択科目は、下記の「受験番号欄記入例」「選択科目欄記入例」に従って正確にマークしなさい。
5. 試験時間は **60分** です。
6. 試験開始後、問題用紙に不備(ページのふぞろい・印刷不鮮明など)があったら申し出なさい。
7. 問題の内容についての質問には、いっさい応じられません。
8. 中途退出は認めません。試験終了後、この問題用紙は持ち帰りなさい。

### 受験番号欄記入例・選択科目欄記入例

(アルファベットと数字の位置に注意してマークしなさい)  
(アルファベットのO・Qはありません)

受 験 番 号 欄				
H	5	7	0	9
(A)	○	○	●	○
(B)	○	○	○	○
(C)	○	○	○	○
(D)	○	○	○	○
(E)	○	○	○	○
(F)	○	○	○	○
(G)	○	○	○	○
(H)	○	○	○	○
(I)	○	○	○	○
(J)	○	○	○	○
(K)	○	○	○	○
(L)	○	○	○	○
(M)	○	○	○	○
(N)	○	○	○	○
(P)	○	○	○	○
(R)	○	○	○	○

「世界史」を選択した場合

選 択 科 目 欄	
○	政 治 ・ 経 済
○	日 本 史
●	世 界 史
○	地 理
○	数 学 ①


↑  
解答する1科目に  
必ずマークしなさい

### マーク式解答欄記入上の注意

1. 解答は、HBの黒鉛筆を使用して丁寧にマークしなさい。
 

《マーク例》

良い例 ●

悪い例 
2. 訂正する場合は、プラスチック消しゴムで、きれいにマークを消し取りなさい。
3. 所定の記入欄以外には、何も記入してはいけません。
4. 解答用紙を汚したり、折り曲げたりしてはいけません。

## 政治・経済

この問題はⅠからⅣまであります。解答用紙には問題番号が  から  までありますが、解答に使用する問題番号は  から  までです。

Ⅰ 次の文章を読み、問いに答えなさい。

フランス人権宣言第16条が述べているように、権力分立は、国民の権利の保障とともに、近代憲法に不可欠の要素である。権力分立の重要性が認識されるようになったのは、<sup>(ア)</sup>絶対王政時代の国王による恣意的な支配すなわち人の支配が、人間生来の生命・自由・財産に関する固有の権利を侵害したという経験に基づく。すでに、 は『市民政府二論』において、モンテスキューに先んじて権力分立の確立を主張していた。

モンテスキューが『法の精神』で説いた権力分立制は、立法権・行政権・司法権の三権相互間の抑制・均衡を図るものであった。モンテスキューはこの三権分立論をイギリスの国政をモデルとして理論化した。しかし、当のイギリスでは、<sup>(イ)</sup>立法府と行政府が密接に結びついている。第二次世界大戦後、日本はアメリカの民主主義から多くを学んだが、日本国憲法が採用したのは、イギリス型の議院内閣制であった。

日本国憲法上、「国権の最高機関」「唯一の立法機関」と位置づけられているのが、主権者である国民が選挙で選出した議員からなる国会である。国会は、立法はもちろん、予算の議決、 の承認、さらには各議院が有する  権などを通じて行政権を担う内閣を監督している。これに対して、国会から指名された内閣総理大臣を長とする内閣は、国会に対して連帯責任を負っており、衆議院で内閣不信任決議案が可決された場合、内閣は10日以内に総辞職するか、衆議院の解散を行うかのいずれかを選択しなければならない。

一方、<sup>(ウ)</sup>アメリカの大統領制は、モンテスキューの三権分立論を厳格に適用した制度であるといえる。立法権を担う議会と行政権を担う大統領は明確に区別され、大統領は議会の解散権をもたないが、議会も大統領に対する不信任決議権をもたない。しかし、大統領は議会に対して<sup>(エ)</sup>拒否権、上院は大統領に対して  承認権・上級公務員任命同意権をもつという形で、相互に抑制・均衡を図っている。また、裁判所には、立法府や行政府の行為が憲法に適合するかどうかについて審査する<sup>(オ)</sup>違憲法令審査権が認められており、この裁判所の権能は日本の司法制度にも取り入れられている。

なお、中国では憲法上、 が最高権力機関とされ、資本主義諸国の権力分立制とは異なる民主集中制と呼ばれる体制が採用されている。また、中国共産党は、資本主義諸国の政党とは異なっており、1989年の天安門事件以来、党の指導体制が強化されてきた。このほか、<sup>(カ)</sup>アジアや中東、ラテンアメリカなどでは、人権よりも経済開発を優先させる開発独裁体制のもと、経済発展を進めてきた国が少なからず存在する。

問1 下線部(ア)に関連して、絶対王政や市民革命をめぐる事からについての説明として最も適切なものを、次の①～④の中から1つ選びなさい。

1

- ① ジョン王は、みずからの絶対的な権力を国内の封建諸侯に認めさせるため、マグナ・カルタを制定した。
- ② エドワード・コーク(クック)は、13世紀の法学者ブラクトンの言葉を引用し、国民に重税を課す国王を諫めた。
- ③ 人の支配に対抗して主張された「法の支配」は、法の内容よりも法の形式を重視するという点で法治主義と異なる。
- ④ 17～18世紀に起こった市民革命の主たる担い手は、第一次産業革命により出現した生産手段をもたない労働者階級であった。

問2 下線部(イ)に関連して、イギリスの現行の議院内閣制についての説明として最も適切なものを、次の①～④の中から1つ選びなさい。

2

- ① 上院には、最高裁判所にあたる最高法院が置かれている。
- ② 上院は非民選の議員からなり、下院に対して優越している。
- ③ 内閣を構成する国务大臣はすべて国会議員でなければならない。
- ④ 首相は、上下両院の選挙により指名され、国王によって任命される。

問3 下線部(ウ)に関連して、アメリカの政治制度についての説明として最も適切なものを、次の①～④の中から1つ選びなさい。

3

- ① 大統領は、国民による直接選挙で選出され、任期は4年で3選が禁止されている。
- ② 上院は各州から2名ずつ選出され、任期は6年で3年ごとに半数ずつ改選される。
- ③ 大統領は法律案の提出権をもたないが、予算案についての提出権は有している。
- ④ 中央政府(連邦政府)と地方政府が統治権を分担する連邦制を採用している。

問4 下線部(エ)に関連して、大統領が上下両院で可決された法律案に拒否権を行使した場合の効果に関する説明として最も適切なものを、次の①～④の中から1つ選びなさい。

4

- ① 議会に対抗手段はなく、そのまま廃案となる。
- ② 上院で3分の2以上の賛成で再可決すれば、法律となる。
- ③ 上下両院で3分の2以上の賛成で再可決すれば、法律となる。
- ④ 上下両院で2分の1以上の賛成で再可決すれば、法律となる。

問5 下線部(オ)に関連して、日本の違憲法令審査権に関する説明として最も適当なものを、次の①～④の中から1つ選びなさい。

5

- ① 具体的な事件を通じて行使される。
- ② 家庭裁判所や簡易裁判所は、違憲法令審査権を行使することができない。
- ③ 最高裁判所で違憲の判断が確定した法律は、国会の手続きを経ることなく自動的に削除される。
- ④ 最高裁判所は、統治行為を含むすべての行政行為が違憲審査の対象になるという立場をとってきた。

問6 下線部(カ)に関連して、各国における民主化運動についての説明として最も適当なものを、次の①～④の中から1つ選びなさい。

6

- ① キューバでは、1960年代初めに民主化運動に端を発するキューバ危機が起こり、カストロ軍事政権が崩壊した。
- ② イランでは、1970年代末にイスラム教指導者による革命が起こり、開発独裁体制を敷いていたホメイニが追放された。
- ③ エジプトでは、アラブの春と呼ばれる民主化運動の影響を受けて、長期にわたって政権の座にあったムバラク大統領が辞任に追い込まれた。
- ④ チュニジアでは、アラブの春と呼ばれる民主化運動の影響を受けてアサド独裁政権が崩壊し、イスラム系過激派勢力の介入を招き内戦状態が続いている。

問7 文中の 7 ～ 10 に当てはまる最も適当なものを、それぞれの語群①～④の中から1つずつ選びなさい。

7

- ① ホップズ
- ② ボーダン
- ③ ロック
- ④ ルソー

8

- ① 規則
- ② 政令
- ③ 条例
- ④ 条約

9

- ① 弾劾罷免
- ② 国政調査
- ③ 国民投票
- ④ 緊急調整

10

- ① 全国人民代表大会
- ② 国務院総理
- ③ 最高人民法院
- ④ 国家主席

## II 次の文章を読み、問いに答えなさい。

イギリスの政治学者 [11] は、「地方自治は民主主義の学校である」と述べて、民主主義を学ぶに際して地方自治の経験が有効であることを指摘した。ところが、<sup>(ア)</sup>大日本帝国憲法（明治憲法）下の日本は中央集権体制を敷いており、地方自治の意義が広く一般の市民に認識されることはなかった。

これに対して、現行の日本国憲法は第8章に<sup>(イ)</sup>地方自治に関する一章を設け、地方自治を重視する姿勢を明確にした。そして第92条で「地方公共団体の組織及び運営に関する事項は、地方自治の [12] に基いて、<sup>(ウ)</sup>法律でこれを定める」と規定した。ここで、地方自治の [12] とは、<sup>(エ)</sup>住民自治と団体自治の二つの原則をいう。前者は地方自治の担い手が住民自身であることを、後者は地方公共団体が国から一定の独立性を確保しつつ自律的な政治を行うことを意味する。

一方、地方自治の現状をみると、例えば地方公共団体は、必要とするすべての財源を自主財源である<sup>(オ)</sup>地方税で賄うことはできず、今でもかなりの部分を国から交付される<sup>(カ)</sup>依存財源に頼っている。これに対して、地方公共団体が担う事務については、1999年に制定された地方分権一括法により、[A] が廃止され、それまで [A] に区分されていた事務のいくつかの部分が、地方公共団体自身の判断で運営できる [B] に再編された。また、同法は、国と地方公共団体の関係を、[13] へと転換させる契機となった点でも注目される。

問1 文中の [11] ~ [13] に当てはまる最も適当なものを、それぞれの語群①~④の中から1つずつ選びなさい。

[11]

- ① ウィルソン      ② バーク      ③ トックビル      ④ プライス

[12]

- ① 本旨              ② 趣旨              ③ 原理              ④ 理念

[13]

- ① 対等な関係から上下の関係      ② 上下の関係から対等な関係  
③ 対等な関係から敵対する関係      ④ 敵対する関係から対等な関係

問2 下線部（ア）に関連して、明治憲法や明治憲法下の日本の政治状況に関する説明として最も適当なものを、次の①~④の中から1つ選びなさい。

[14]

- ① 明治憲法は、ワイマール憲法をモデルとして成立した。  
② 軍の統帥権は、憲法上、陸軍大臣が有するものとされていた。  
③ 明治憲法には、地方自治に関する規定がなかった。  
④ 明治憲法の下では、最後まで政党内閣が成立することはなかった。

問3 下線部（イ）に関連して、現行の地方制度に関する説明として最も適当なものを、次の①～④の中から1つ選びなさい。

15

- ① 首長や地方議会の議員は、20歳以上の住民による直接選挙によって選出される。
- ② 首長は、地方議会で首長に対する不信任決議案が可決された場合には、議会に対して解散権を行使することができる。
- ③ 首長の任期は4年であるが、公職選挙法の規定により3選が禁止されている。
- ④ 外国人も、公職選挙法の改正により、首長や地方議員を選出する地方選挙で選挙権を行使することが認められている。

問4 下線部（ウ）の法律は、日本国憲法施行と同時に施行された法律を指している。この法律の名称として最も適当なものを、次の①～④の中から1つ選びなさい。

16

- ① 地方自治法
- ② 地域再生法
- ③ まち・ひと・しごと創生法
- ④ 国家行政組織法

問5 下線部（エ）に関連して、有権者数が30万人の地方公共団体における住民の直接請求に関する説明として最も適当なものを、次の①～④の中から1つ選びなさい。

17

- ① 条例の制定・改廃の請求は、有権者の50分の1以上の署名を集めて議会に請求する。
- ② 議会の解散請求は、有権者の3分の1以上の署名を集めて首長に請求する。
- ③ 首長の解職請求は、有権者の3分の1以上の署名を集めて選挙管理委員会に請求する。
- ④ 監査委員の解職請求は、有権者の50分の1以上の署名を集めて首長に請求する。

問6 下線部（オ）に関する説明として最も適当なものを、次の①～④の中から1つ選びなさい。

18

- ① 相続税は、地方税で、なおかつ直接税に区分される。
- ② 入湯税は、地方税で、なおかつ間接税に区分される。
- ③ 消費税は国税なので、その中から地方公共団体の税収として組み込まれる部分はない。
- ④ 地方公共団体は、地方税法に定められた税以外の税を、条例により創設することはできない。

問7 下線部(カ)に関連する説明として最も適当なものを、次の①～④の中から1つ選びなさい。

19

- ① 地方交付税は、地方公共団体が特定の事業を行う際に交付されるもので、用途が限定されている。
- ② 国庫支出金は、地方公共団体間の財政力の格差を是正するために交付されている。
- ③ 地方債は、地方公共団体が財源不足を補うために発行するもので、都道府県の場合、総務大臣の許可が常に必要となる。
- ④ 三位一体の改革では、地方交付税の見直し、国庫支出金の削減、国から地方への税源移譲の3つが進められた。

問8 文中の  ・  に当てはまる言葉の組合せとして最も適当なものを、次の①～⑥の中から1つ選びなさい。

20

- ① A 自治事務                      B 機関委任事務
- ② A 自治事務                      B 法定受託事務
- ③ A 機関委任事務                B 自治事務
- ④ A 機関委任事務                B 法定受託事務
- ⑤ A 法定受託事務                B 自治事務
- ⑥ A 法定受託事務                B 機関委任事務

### Ⅲ 次の文章を読み、問いに答えなさい。

資金を必要とする者と資金に余裕がある者が、市場で資金を融通しあうことを<sup>(ア)</sup>金融といい、金融機関がその仲立ちを行っている。金融市場で運用される資金は、民間の資金だけではない。例えば、日本の GPIF（年金積立金管理運用独立行政法人）は、<sup>(イ)</sup>公的年金制度の財源となる年金積立金を金融市場で運用している。<sup>(ウ)</sup>少子高齢化が進む日本では、現役世代の負担を減らすため、公的年金の積立金を株式などの収益性の高い分野で運用する割合が高まる傾向にあるが、それには経済の動向に起因するリスクがともなう。そこで、バブル経済以降の日本における金融を中心とする経済状況を振り返ってみよう。

1980年代後半、<sup>(エ)</sup>日本銀行は円高不況に対処するため  政策を実施し、このことが金融市場における余剰資金を生み出した。そして、この余剰資金の多くが土地や<sup>(オ)</sup>株式への投資に向かい、地価や株価が実体経済以上に肥大化するバブル経済が出現した。また、当時は日米貿易摩擦が深刻化しており、こうした問題について協議するため1989年から1990年にかけて  が開かれた。

1990年代初頭、バブル経済が崩壊すると、土地を担保に資金を貸していた金融機関は巨額の不良債権を抱えることになった。ところが、1990年代後半には、フリー・フェア・グローバルをスローガンとする日本版  といわれる改革が断行され、1980年代から続く金融自由化がいっそう進められた。その結果、経営が深刻化した大手の金融機関の中にも経営破たんするケースがみられた。

深刻化する不況に対して、企業は<sup>(カ)</sup>事業の再構築を余儀なくされた。また、日本銀行は、1999年に  政策、2001年に  政策を実施するなど、これまでにない対応を矢継ぎ早に行った。そうしたこともあって、国内の不良債権問題はいったん収束に向かった。しかし、2008年にはリーマン・ショックが起り、世界的な金融危機にまで発展した。日本では、戦後最長の景気拡大が終結したり、GPIF が巨額の損失を出したりするなどの影響が現れた。また、同年に開催された  においても、新興国を含め各国がこの金融危機にどのように対処するかが討議された。

問1 下線部（ア）に関連して、金融や金融機関に関する説明として最も適当なものを、次の①～④の中から1つ選びなさい。

- ① 企業が、設備投資に必要な資金を銀行から借り入れることを間接金融という。
- ② 金融市場で、資金の需要量が供給量を上回る状態が生じているときには、金利は低下する。
- ③ 国際的な金融業務を行う銀行は、BIS 規制により自己資本比率を8%以下とすることが義務づけられている。
- ④ 復興金融金庫は、東日本大震災による被害からの復興に必要な資金を貸与するために設立された政府系金融機関である。



問2 下線部(イ)に関連して、現行の日本の公的年金制度に関する説明として最も適切なものを、次の①～④の中から1つ選びなさい。

22

- ① 在職中に拠出した保険料で将来の自分の年金給付をまかなう賦課方式が採用されている。
- ② 原則として20歳以上の学生も、国民年金に加入することを義務づけられている。
- ③ 民間企業に勤める会社員の配偶者は第2号被保険者とされ、保険料を支払う義務はない。
- ④ 民間企業の会社員は厚生年金保険に、公務員や私立学校の教職員は共済年金に加入する。

問3 下線部(ウ)に関する説明として最も適切なものを、次の①～④の中から1つ選びなさい。

23

- ① 合計特殊出生率は近年1.4台で推移しており、このまま推移すれば、将来、日本の人口は減少に転じる可能性がある。
- ② 現在、総人口に占める65歳以上の老年人口の割合は21%を超えており、すでに超高齢社会に突入している。
- ③ ここ数年、14歳以下の年少人口は減少しているが、15歳から64歳までの生産年齢人口は増加している。
- ④ 政府は、超高齢社会に対処するため後期高齢者医療制度を実施し、70歳以上の老人医療費の無料化を実現している。

問4 下線部(エ)に関する説明として最も適切なものを、次の①～④の中から1つ選びなさい。

24

- ① 唯一の発券銀行として、紙幣と硬貨の発行を行っている。
- ② 国内の大手の事業会社は、日本銀行に当座預金を開設することが認められている。
- ③ 最後の貸し手として、資金繰りが困難になった市中の金融機関に資金供給を行う場合がある。
- ④ 物価上昇率に関する目標値を掲げて、その達成のために金融政策を行うことは法律により禁止されている。

問5 下線部(オ)に関連して、株式会社に関する説明として最も適切なものを、次の①～④の中から1つ選びなさい。

25

- ① 株主は、会社の負債に対してみずからの出資額の範囲内で責任を負う。
- ② 株式会社の設立には、最低1,000万円の資本金を必要とする。
- ③ 株主は、出資額に応じて、毎年定額の配当を受け取ることができる。
- ④ 会社法にもとづき、経営を担う取締役はすべて株主でなければならない。

問6 下線部(カ)に関連して、近年の日本企業の変化に関する説明として最も適切なものを、次の①～④の中から1つ選びなさい。

26

- ① 労働組合の形態が変化し、それまで活動の中心であった産業別組合が廃止され企業別組合が中心となった。
- ② 一生にわたる労働を強いられる過酷な終身雇用制の弊害が問題となり、定年制が敷かれるようになった。
- ③ 年功序列型賃金から、能力給や年俸制などの成果主義的な賃金制度を導入する企業も現れるようになった。
- ④ 外国資本による買収を回避するため、グループ内の企業がたがいに株式をもちあい、企業集団を形成するようになった。

問7 文中の  X  ~  Z に当てはまる言葉の組合せとして最も適切なものを、次の①～⑧の中から1つ選びなさい。

27

- |   |   |      |   |        |   |        |
|---|---|------|---|--------|---|--------|
| ① | X | 低金利  | Y | ゼロ金利   | Z | マイナス金利 |
| ② | X | 低金利  | Y | ゼロ金利   | Z | 量的緩和   |
| ③ | X | 低金利  | Y | マイナス金利 | Z | ゼロ金利   |
| ④ | X | 低金利  | Y | マイナス金利 | Z | 量的緩和   |
| ⑤ | X | ゼロ金利 | Y | マイナス金利 | Z | 低金利    |
| ⑥ | X | ゼロ金利 | Y | マイナス金利 | Z | 量的緩和   |
| ⑦ | X | ゼロ金利 | Y | 低金利    | Z | マイナス金利 |
| ⑧ | X | ゼロ金利 | Y | 低金利    | Z | 量的緩和   |

問8 文中の  28  ~  30 に当てはまる最も適切なものを、それぞれの語群①～④の中から1つずつ選びなさい。

28

- |          |            |
|----------|------------|
| ① 日米賢人会議 | ② 日米繊維交渉   |
| ③ 日米構造協議 | ④ 日米包括経済協議 |

29

- |           |           |          |        |
|-----------|-----------|----------|--------|
| ① 金融ビッグバン | ② ペレストロイカ | ③ 改革開放政策 | ④ 構造改革 |
|-----------|-----------|----------|--------|

30

- |       |       |       |        |
|-------|-------|-------|--------|
| ① G 5 | ② G 7 | ③ G 8 | ④ G 20 |
|-------|-------|-------|--------|

## IV 次の文章を読み、問いに答えなさい。

第二次世界大戦後の国際経済体制は、為替相場の安定と自由貿易の推進を二つの大きな柱として構築された。前者を担ってきたのがIMF（国際通貨基金）、後者を担ったのがGATT（関税および貿易に関する一般協定）とそれを受けついでWTO（世界貿易機関）である。

IMFは、31 協定にもとづいて、1945年、IBRD（国際復興開発銀行）とともに設立された。そして、戦前の列強による平価切下げ競争が第二次世界大戦の引き金になったという認識に立って、金との交換を保証されたアメリカドルを基軸通貨とする固定相場制の維持と、<sup>(ア)</sup>国際収支が悪化した国に対する短期資金の融資を主たる設立目的とした。一方、<sup>(イ)</sup>自由・無差別・多角をスローガンとして掲げたGATTは、いくつかのラウンドを経て、関税や非関税障壁の撤廃、サービス貿易の自由化、<sup>(ウ)</sup>知的財産権の保護、<sup>(エ)</sup>農産物の自由化について一定の成果を上げた。そして、1995年には、GATTを発展的に改組してWTOが発足した。

しかし、IMFやWTOのその後の状況は、必ずしも順調とはいえなかった。例えば、IMFが採用した固定相場制は、1960年代の<sup>(オ)</sup>ドルに対する信用の低下や1970年代初頭の<sup>(カ)</sup>ニクソン・ショックを経て、1973年に崩壊し、主な先進国は変動相場制へと移行した。また、WTOも、順調に加盟国は増加したものの、WTOの下で新たに開始された32 ラウンドは、2017年9月現在、最終的な合意を得るに至っていない。

このように、戦後構築されたIMF・GATT体制は、当初の姿とはかなり異なったものとなった。しかし、だからといって、為替相場の安定や自由貿易の推進という理念が、国際社会で意味をもたなくなったわけではない。例えば、IMFは、1997年の33 通貨危機や2010年のユーロ危機に際して、通貨や為替相場の安定のために一定の役割を果たしたし、自由貿易の推進という点についても、二国間や各地域における経済統合は着実に進展してきた。日本も、2002年に34 との間で経済連携協定を締結したのを端緒として、他国あるいは他地域との経済連携を拡大してきた。

問1 文中の31 ～ 34 に当てはまる最も適当なものを、それぞれの語群①～④の中から1つずつ選びなさい。

31

- ① ブレトンウッズ      ② 北米自由貿易      ③ キングストン      ④ ケロッグ・ブリアン

32

- ① ウルグアイ      ② ドーハ      ③ 東京      ④ ケネディ

33

- ① メキシコ      ② アジア      ③ ロシア      ④ アルゼンチン

34

- ① ロシア      ② 韓国      ③ 中国      ④ シンガポール

問2 下線部（ア）に関連して、国際収支を構成する各項目についての説明として最も適当なものを、次の①～④の中から1つ選びなさい。

35

- ① 商品の輸入代金や著作権使用料の支払いは、貿易・サービス収支にプラスとして計上される。
- ② 海外への投資から得た配当や利子は、第二次所得収支にプラスとして計上される。
- ③ 途上国への社会資本のための無償資金協力は、資本移転等収支にプラスとして計上される。
- ④ 海外の会社の買収や株式の購入は、金融収支にプラスとして計上される。

問3 下線部（イ）に関する説明として最も適当なものを、次の①～④の中から1つ選びなさい。

36

- ① 自由とは、経済学者リストが提唱したように、関税を引き下げて自由貿易の実現を図ることを意味する。
- ② 無差別とは最恵国待遇をいい、GATTでは途上国に対する一般特惠関税が認められていなかった。
- ③ 無差別には、自国民と同等の権利を相手国の国民にも保障することを意味する内国民待遇も含まれる。
- ④ 多角とは、さまざまな分野について、多国間ではなく2国間で貿易交渉を進めることを意味する。

問4 下線部（ウ）に関連して、知的財産権に該当しない権利を、次の①～④の中から1つ選びなさい。

37

- ① 土地に関する所有権
- ② 商品に使用する商標権
- ③ 新規性のある発明に関する特許権
- ④ 楽曲についての著作権

問5 下線部(工)に関連して、日本の農業の現状に関する説明として最も適当なものを、次の①～④の中から1つ選びなさい。

38

- ① 現在、全就業者に占める農業就業人口の割合は、GDPに占める第一次産業の割合を大幅に下回っている。
- ② カロリーベースの食料自給率は40%弱となっており、他の先進国と比べて低い水準にある。
- ③ 国内におけるコメの生産が需要を大幅に上回っていることから、減反政策のさらなる強化が図られている。
- ④ 付加価値を高めるため、農家は農作物の生産に集中し、加工・流通・販売から手を引く「6次産業化」が図られている。

問6 下線部(オ)に関連して、1960年代におけるドルの信用低下の要因として最も適当なものを、次の①～④の中から1つ選びなさい。

39

- ① IMFによってSDR(特別引出し権)制度が創設された。
- ② 輸入の増加によって、外国からアメリカへのドルの流入が増加した。
- ③ ベトナム戦争への介入や西側諸国への経済援助によって、アメリカの財政支出が拡大した。
- ④ 日本の自動車会社などの外国企業がアメリカへ多額の直接投資を行った。

問7 下線部(カ)に関連する説明として最も適当なものを、次の①～④の中から1つ選びなさい。

40

- ① 1973年の第一次石油危機がその主たる原因となった。
- ② これに対処するため、スミソニアン合意によりドルが切り下げられた。
- ③ 日本は急速に景気が悪化して、翌年、深刻なデフレーションに見舞われた。
- ④ これに対処するため、日本は戦後初めて赤字国債の発行に踏み切った。

政治・経済の問題はここまでです

このページは余白です。

# 日 本 史

この問題はⅠからⅣまであります。解答用紙には問題番号が  から  までありますが、解答に使用する問題番号は  から  までです。

Ⅰ 古代史に関する次の略年表をみて、 ～  の問いに答えなさい。

478年	倭王武が南朝の宋に上表文を奉る。
527年	筑紫国造磐井が反乱をおこす。
630年	(1) <u>最初の遣唐使を派遣する。</u>
701 (大宝元) 年	(2) <u>大宝律令が完成する。</u>
713 (和銅6) 年	諸国に(3) <u>『風土記』の編纂が命じられる。</u>
743 (天平15) 年	(4) <u>墾田永年私財法が発布される。</u>
751 (天平勝宝3) 年	漢詩集 <input type="text" value="(5)"/> が編纂される。
764 (天平宝字8) 年	恵美押勝の乱がおこる。
784 (延暦3) 年	(6) <u>長岡京に遷都する。</u>
802 (延暦21) 年	(7) <u>坂上田村麻呂が胆沢城を築く。</u>
842 (承和9) 年	(8) <u>承和の変がおこる。</u>
901 (延喜元) 年	(9) <u>『日本三代実録』が成立する。</u>
1017 (寛仁元) 年	(10) <u>藤原道長が太政大臣となる。</u>

下線部(1)の最初の遣唐使として派遣された人物は誰か。最も適切なものを、次の①～④から1つ選びなさい。

- ① 犬上御田鍬      ② 小野妹子      ③ 高向玄理      ④ 粟田真人

下線部(2)の編纂にあたった人物の組み合わせとして最も適切なものを、次の①～④から1つ選びなさい。

- ① 刑部親王・藤原鎌足  
 ② 刑部親王・藤原不比等  
 ③ 舍人親王・藤原鎌足  
 ④ 舍人親王・藤原不比等





8 下線部（8）ののちにおこった、藤原氏が関わった政治的事件に関連する記述として最も適切なものを、次の①～④から1つ選びなさい。

- ① 応天門の変ののち、藤原冬嗣は清和天皇の信任を得て蔵人頭になった。
- ② 阿衡の紛議を経て、藤原良房は宇多天皇の摂政になった。
- ③ 藤原時平は、策謀によって菅原道真を政界から追放した。
- ④ 藤原基経は、安和の変ののちに宇多天皇の関白になった。

9 下線部（9）の『日本三代実録』が成立したときの天皇として最も適切なものを、次の①～④から1つ選びなさい。

- ① 清和天皇                      ② 文徳天皇                      ③ 光孝天皇                      ④ 醍醐天皇

10 下線部（10）の藤原道長が詠んだ次の歌を記載する、藤原実資の日記として最も適切なものを、下の①～④から1つ選びなさい。

「此の世をば我が世とぞ思ふ望月の かけたることも無しと思へば」

- ① 『玉葉』                      ② 『小右記』                      ③ 『土佐日記』                      ④ 『蜻蛉日記』

Ⅱ 次の〔文章A〕～〔文章C〕を読み、〔11〕～〔20〕の問いに答えなさい。

〔文章A〕

1150年代におこった保元の乱や平治の乱は、武士の力を貴族社会に示す事件となり、<sup>(1)</sup>この2つの戦乱に勝利した平清盛の地位と権力は急速に高まった。しかし、平氏への不満は1177年の〔2〕の陰謀で表面化することとなった。

さらに1180年5月、<sup>(3)</sup>後白河法皇の子である〔4〕が源頼政と謀り、京都で挙兵した。この挙兵は失敗したものの、この前月に出された〔4〕の令旨は諸国の武士に伝えられ、内乱は全国に広がっていった。当時の年号から治承・寿永の乱ともよばれる源平の争乱は、1185年、<sup>(5)</sup>壇の浦の戦いで平氏が滅び、終結した。

〔11〕 下線部（1）に関連して、平清盛や平氏に関して述べた文として誤っているものを、次の①～④から1つ選びなさい。

- ① 平清盛は武士としてはじめて太政大臣になり、一族の者は朝廷の高位高官についた。
- ② のちに建礼門院とよばれた平徳子は、高倉天皇の中宮となり、その子は安徳天皇となった。
- ③ 平清盛は北宋の皇帝に使者を送って正式に国交をひらき、大輪田泊を修理して宋の商人の招来につとめた。
- ④ 平氏一門は厳島神社を氏神としてあつく信仰し、「平家納経」を奉納した。

〔12〕 空欄〔2〕・〔4〕に入る場所・人物名の組み合わせとして最も適切なものを、次の①～④から1つ選びなさい。

- |   |         |          |
|---|---------|----------|
| ① | 〔2〕 鹿ヶ谷 | 〔4〕 宗尊親王 |
| ② | 〔2〕 鹿ヶ谷 | 〔4〕 以仁王  |
| ③ | 〔2〕 一の谷 | 〔4〕 宗尊親王 |
| ④ | 〔2〕 一の谷 | 〔4〕 以仁王  |

〔13〕 下線部（3）の後白河法皇に関して述べた文として最も適切なものを、次の①～④から1つ選びなさい。

- ① 院の御所に北面の武士を組織し、平正盛ら源平の武士を側近とした。
- ② 延久の荘園整理令を出し、中央に記録荘園券契所を設けた。
- ③ 民間の流行歌謡である今様を学び、『梁塵秘抄』を編集した。
- ④ 歌人としても知られ、『新古今和歌集』の撰上を命じた。

〔14〕 下線部（5）の戦いがおこった国として最も適切なものを、次の①～④から1つ選びなさい。

- |       |       |       |       |
|-------|-------|-------|-------|
| ① 筑前国 | ② 長門国 | ③ 豊後国 | ④ 安芸国 |
|-------|-------|-------|-------|

## 〔文章B〕

13世紀後半、〔6〕を服属させたフビライは、数回にわたって日本に使者を派遣したが、鎌倉幕府の8代執権北条時宗はこれを拒絶した。その結果、<sup>(7)</sup>1274年の文永の役において、日本軍は襲来した元軍と博多湾などで交戦することとなったが、元軍を退却させることに成功した。

しかし、1270年代後半に〔8〕を滅ぼした元は、再び日本の征服をめざした。フビライは日本に大軍を派遣し、1281年の弘安の役で、日本軍は元軍と再度交戦した。暴風などもあって、このときも元軍を退却させることができたが、さらなる襲来も予測されたため、幕府は防備体制をゆるめることはできなかった。

御家人らは蒙古襲来に際して多大な負担を強いられたが、幕府は彼らに十分な恩賞を与えることができなかった。<sup>(9)</sup>経済的に窮乏した御家人は幕府に対する不満を強め、そうした不満は北条氏得宗による専制政治が強化されたことによって、さらに強まっていった。

15 空欄〔6〕・〔8〕に入る国名の組み合わせとして最も適切なものを、次の①～④から1つ選びなさい。

- |   |        |        |
|---|--------|--------|
| ① | (6) 高麗 | (8) 南宋 |
| ② | (6) 高麗 | (8) 渤海 |
| ③ | (6) 新羅 | (8) 南宋 |
| ④ | (6) 新羅 | (8) 渤海 |

16 下線部(7)に関して述べた文として最も適切なものを、次の①～④から1つ選びなさい。

- ① 一騎打ち戦を中心とする元軍に対し、日本軍は集団戦を展開した。
- ② 鎌倉から派遣された北条泰時が、大軍を率いて元軍と交戦した。
- ③ 文永の役ののち、異国警固番役が強化された。
- ④ 文永の役ののち、朝鮮式山城が西日本各地に築かれた。

17 下線部(9)に関して述べた文として最も適切なものを、次の①～④から1つ選びなさい。

- ① 御家人を救済するため、執権北条時頼によって永仁の徳政令が出された。
- ② 貨幣経済の浸透や、分割相続の繰り返しによる所領の細分化は、御家人を窮乏させる一因となった。
- ③ 御家人の窮乏を背景に所領をめぐる紛争が増大したため、蒙古襲来後、幕府は所領に関する紛争を担当するための引付を設置した。
- ④ 蒙古襲来ののち、北条氏の権力が拡大するなかで、有力御家人の比企能員が滅ぼされた。

## 〔文章C〕

室町時代には、<sup>(10)</sup>日明貿易のおもな輸入品となった明銭が流通するようになるなかで、  
 □(11)などが金融業を活発に行った。しかし、貨幣の需要が増大するとともに粗悪な私鑄銭も  
 流通するようになったため、取引の際に悪銭を嫌って精銭（良質の銭）を選ぶ撰銭が行われ  
 た。円滑な流通が阻害されるなかで、16世紀には、<sup>(12)</sup>幕府や戦国大名によって、しばしば撰銭  
 令が発令された。

18 下線部（10）に関して述べた文として最も適切なものを、次の①～④から1つ選びなさい。

- ① 6代将軍足利義教が朝貢形式に反対したため、貿易は一時中断した。
- ② 遣明船は、明から交付された朱印状を持参することが義務づけられた。
- ③ 15世紀後半になると、貿易の実権は細川氏や大内氏の手に移った。
- ④ 16世紀前半におこった三浦の乱によって、日明貿易は途絶した。

19 空欄 □(11)に入る語句として最も適切なものを、次の①～④から1つ選びなさい。

- ① 札差                      ② 馬借                      ③ 掛屋                      ④ 土倉

20 下線部（12）に関連して、16世紀における幕府や戦国大名の動向に関して述べた文として最も適切なものを、次の①～④から1つ選びなさい。

- ① 播磨の有力守護赤松満祐によって、当時の将軍が殺害された。
- ② 各地で戦乱が発生するなかで、幕府は最初の半済令を発令した。
- ③ 越前の戦国大名朝倉氏は、『塵芥集』とよばれる分国法を制定した。
- ④ 甲斐の戦国大名武田氏は、越後の上杉氏と川中島などで戦った。

Ⅲ 次の〔文章A〕～〔文章C〕と〔史料D〕を読み、～の問いに答えなさい（史料は一部省略したり、書き改めたりしたところもある）。

〔文章A〕

1615年の大坂の役の直後、幕府は一国一城令・武家諸法度（元和令）・禁中並公家諸法度を出した。<sup>(1)</sup> 朝廷や公家を統制するための禁中並公家諸法度は幕末まで改定されなかったが、武家諸法度は原則として将軍の代替わりごとに発布された。

最初の武家諸法度は、2代将軍徳川秀忠の名で発令された。3代将軍徳川家光によって年間に発された武家諸法度では、大名の参勤交代が義務づけられた。

下線部（1）に関連して、江戸時代の朝幕関係に関して述べた文として最も適切なものを、次の①～④から1つ選びなさい。

- ① 17世紀前半には、後陽成天皇による紫衣勅許が幕府によって無効とされる事件がおこった。
- ② 18世紀前半には、幕政を主導していた松平定信のもとで、閑院宮家が創設された。
- ③ 18世紀後半には、尊号一件によって朝幕関係の悪化を招いた水野忠邦が、老中の辞職を余儀なくされた。
- ④ 19世紀後半には、公武合体政策を進める安藤信正のもとで、孝明天皇の妹和宮が将軍徳川家茂に降嫁した。

空欄  に入る年号として最も適切なものを、次の①～④から1つ選びなさい。

- ① 寛文                      ② 宝暦                      ③ 寛永                      ④ 天明

## 〔文章B〕

国内統一を実現した<sup>(3)</sup>豊臣秀吉は、日本を東アジアの中心とする新しい国際秩序の構築をめざし、 (4) のスペイン政庁や高山国（台湾）などに、服属と入貢を求めた。また、明の征服をめざして<sup>(5)</sup>朝鮮侵略を断行した。

その後、徳川家康は諸外国との国交の回復をめざし、積極的な外交を展開した。しかし、やがて<sup>(6)</sup>幕府は貿易独占やキリスト教禁止を目的として、いわゆる鎖国政策を進めていった。

- 23 下線部（3）に関連して、豊臣秀吉の時代を中心とする桃山文化に関して述べた文として最も適切なものを、次の①～④から1つ選びなさい。
- ① 村田珠光が侘茶を創出した。  
 ② 菱川師宣が浮世絵の版画を始めた。  
 ③ 狩野永徳が『唐獅子図屏風』などの作品を残した。  
 ④ 松尾芭蕉が『奥の細道』などの紀行文を著した。
- 24 空欄  (4) に入る地名として最も適切なものを、次の①～④から1つ選びなさい。
- ① マカオ                      ② マニラ                      ③ アユタヤ                      ④ ゴア
- 25 下線部（5）に関連して、朝鮮侵略によって連行された陶工が創始したことや、酒井田柿右衛門が赤絵の技法を完成させたことで知られる陶磁器として最も適切なものを、次の①～④から1つ選びなさい。
- ① 瀬戸焼                      ② 常滑焼                      ③ 有田焼                      ④ 備前焼
- 26 下線部（6）に関して述べた文として最も適切なものを、次の①～④から1つ選びなさい。
- ① 1610年代には、幕府によって禁教令が出され、キリシタン大名の高山右近らが国外に追放された。  
 ② 1620年代には、ポルトガルの利益独占を排除するため、徳川家康のもとで糸割符制度が設けられた。  
 ③ 1630年代におこったサン＝フェリペ号事件をうけて、幕府はスペイン船の来航を禁止した。  
 ④ 1640年代に九州でおこった島原の乱をうけて、幕府は禁教政策を強化した。

〔文章C〕

江戸時代中期以降、<sup>(7)</sup>商品経済の発展を背景に、政治・経済への発言を積極的に行う経世家が活発に活動した。たとえば、『』の著者である海保青陵は藩専売制による財政再建を説き、は『経世秘策』や『西域物語』で開国貿易論を主張した。

下線部(7)に関連して、代表的な商品作物である四木のうち、紙の原料はどれか。最も適切なものを、次の①～④から1つ選びなさい。

- ① 麻                      ② 藍                      ③ 楮                      ④ 紅花

空欄・に入る書名と著者の組み合わせとして最も適切なものを、次の①～④から1つ選びなさい。

- ① (8) 稽古談              (9) 本多利明  
② (8) 稽古談              (9) 佐藤信淵  
③ (8) 自然真営道        (9) 本多利明  
④ (8) 自然真営道        (9) 佐藤信淵

〔史料D〕

御旗本ニ召置かれ候御家人、御代々段々相増候。(中略)それニ付、御代々御沙汰之無き事ニ候得共、万石以上の面々より八木差し上げ候様ニ仰せ付けらるべしと思召し、左候ハねば御家人の内数百人、御扶持召放さるべきより外は之無く候故、御恥辱を顧みられず仰せ出され候。高壺万石ニ付八木石積み差し上げらるべく候。

(『御触書寛保集成』)

出典：山川出版社『詳説日本史史料集』

〔史料D〕の政策を行った将軍として最も適切なものを、次の①～④から1つ選びなさい。

- ① 徳川家斉              ② 徳川吉宗              ③ 徳川綱吉              ④ 徳川家慶

空欄に入る数字として最も適切なものを、次の①～④から1つ選びなさい。

- ① 一                      ② 十                      ③ 五十                      ④ 百

IV 次の〔文章A〕・〔文章B〕を読み、 ～  の問いに答えなさい。

## 〔文章A〕

1880年代後半、<sup>(1)</sup>鉄道や紡績業などで会社の設立があいついで産業革命がはじまった。

紡績業や製糸業などの軽工業を中心に、機械技術が本格的に用いられるようになった。紡績業ではそれまでの手紡にかわって、水力を利用した簡単な紡績機械である<sup>(2)</sup>ガラ紡が明治初期に普及して産業効率が高まっていった。

さらに1883（明治16）年、大阪紡績会社が操業を開始すると、安価な・インド産綿花を原料に、製の最新の大型紡績機を用いて大量生産を行い業績を上げた。これに刺激されて紡績工場の建設があいついだ結果、1890（明治23）年、綿糸の国内生産量が輸入量を上回った。さらに<sup>(3)</sup>1897（明治30）年には輸出量が輸入量を上回った。

製糸業では、日露戦争後、アメリカ向けを中心に生糸輸出がさらに拡大し、1909（明治42）年には生糸の輸出量がを抜いて世界一となった。

日清戦争後、軍備拡張をめざす政府は、日清戦争の賠償金などを資金として、北九州に官営八幡製鉄所を設立した。八幡製鉄所は、設備・技術面ではドイツに依存し、の鉄鉱石などを使用した。操業開始直後は故障などにより不振であったが、日露戦争中の大拡張により、生産は軌道に乗った。

下線部（1）に関連して、明治時代の鉄道に関して述べた文として最も適切なものを、次の①～④から1つ選びなさい。

- ① 1870年代には、新橋・横浜間の鉄道が開通した。
- ② 1880年代には、南満州鉄道株式会社が設立された。
- ③ 1890年代には、鉄道国有法が公布された。
- ④ 1900年代には、日本鉄道会社が設立された。

下線部（2）を発明した人物として最も適切なものを、次の①～④から1つ選びなさい。

- ① 本木昌造                      ② 臥雲辰致                      ③ 豊田佐吉                      ④ 岩崎弥太郎

空欄・に入る国名の組み合わせとして最も適切なものを、次の①～④から1つ選びなさい。

- ① (ア) 朝鮮                      (イ) フランス
- ② (ア) 朝鮮                      (イ) イギリス
- ③ (ア) 中国                      (イ) フランス
- ④ (ア) 中国                      (イ) イギリス



34 下線部 (3) の1897年には貨幣法が成立し、金本位制が採用された。当時の内閣として最も適切なものを、次の①～④から1つ選びなさい。

- ① 第2次伊藤博文内閣                      ② 第2次松方正義内閣  
③ 第1次大隈重信内閣                      ④ 第2次山県有朋内閣

35 空欄 (ウ) に入る地名として、最も適切なものを、次の①～④から1つ選びなさい。

- ① 大 冶                      ② 生 野                      ③ 高 島                      ④ 三 池

## 〔文章B〕

太平洋戦争の終結後、<sup>(4)</sup>日本は連合国の占領下におかれた。初期の占領政策では、日本の非軍事化・民主化が基本方針とされ、<sup>(5)</sup>G H Q（連合国軍最高司令官総司令部）のもとでさまざまな政策が実施された。

やがて<sup>(6)</sup>冷戦が激化すると、1948（昭和23）年ころからアメリカは日本を「反共の防壁」と位置づけるようになり、日本の経済復興を促すようになった。同年12月、G H Qは第2次吉田茂内閣に対して経済安定九原則の実行を指令した。翌年来日した財政顧問のデトロイト銀行頭取〔エ〕は、赤字を許さない超均衡予算を作成させ、1ドル=360円の単一為替レートを設定した。

ついで来日したコロンビア大学教授シャウプは、均衡予算実現のため〔オ〕税を中心とする税制改革を勧告した。これらの政策によって深刻なデフレとなり、一時は不況におちいったが、1950（昭和25）年に朝鮮戦争が勃発すると、日本に特需が生じ、一転して好況に転じた。

日本の主権が回復したのち、<sup>(7)</sup>1950年代なかばから日本経済は高度経済成長期をむかえた。

36 下線部（4）に関連して、日本の占領に関して述べた文として最も適切なものを、次の①～④から1つ選びなさい。

- ① 形式上は連合国軍による占領であったが、事実上はほぼアメリカによる単独占領であった。
- ② 直接軍政がしかれた南西諸島や四国など一部の地域をのぞき、間接統治の方法がとられた。
- ③ 対日占領政策決定の最高機関として、ワシントンに対日理事会がおかれた。
- ④ 連合国軍最高司令官の諮問機関として、東京に極東委員会がおかれた。

37 下線部（5）に関して述べた文として誤っているものを、次の①～④から1つ選びなさい。

- ① 新選挙法が制定され、満20歳以上の男女に選挙権が与えられた。
- ② 教育基本法が制定され、義務教育が6年から9年に延長された。
- ③ 労働組合法が制定され、団結権・団体交渉権・争議権が保障された。
- ④ 農業基本法が制定され、2次にわたる農地改革が推進された。

38 下線部（6）に関連して、アメリカと西欧諸国の共同防衛組織として1949年に結成された機構の略称として最も適切なものを、次の①～④から1つ選びなさい。

- ① G A T T            ② N A T O            ③ I M F            ④ O E C D

39 空欄〔エ〕・〔オ〕に入る語句の組み合わせとして最も適切なものを、次の①～④から1つ選びなさい。

- ① 〔エ〕 ドッジ            〔オ〕 間接
- ② 〔エ〕 ドッジ            〔オ〕 直接
- ③ 〔エ〕 マーシャル       〔オ〕 間接
- ④ 〔エ〕 マーシャル       〔オ〕 直接

40 下線部（7）に関連する記述として最も適切なものを、次の①～④から1つ選びなさい。

- ① 「いざなぎ景気」をむかえたころの『経済白書』には、「もはや戦後ではない」と記された。
- ② 「神武景気」をむかえたころ、日本の国民総生産は資本主義諸国の中でアメリカについて世界第2位となった。
- ③ 年平均経済成長率が10%を上回る高度経済成長は、「バブル経済」が崩壊するまで続いた。
- ④ 石炭から石油へのエネルギーの転換がすすみ、原油が比較的安価で供給されたことが成長の一因となった。

日本史の問題はここまでです

このページは余白です。

# 世界史

この問題は I から IV まであります。解答用紙には問題番号が  から  までありますが、解答に使用する問題番号は  から  までです。

I 古代ローマに関する次の略年表を見て、(1)・(2)の問いに答えなさい。

## 略年表

A
前509年頃、王政から共和政へ移行する。
B
前202年、スキピオがザマの戦いでハンニバルを破る。
C
前31年、 <sup>6</sup> アクティウムの海戦が行われる。
D
80年、 <sup>7</sup> コロッセウムが完成する。
E
<sup>8</sup> 180年、 <sup>9</sup> マルクス＝アウレリウス＝アントニヌス帝が死去する。
F
325年、 <sup>10</sup> ニケーア公会議が開催される。
G
476年、西ローマ帝国が滅亡する。
H

(1) 次の  ～  の出来事が起こった時期は、上の略年表中の A～H のいずれに該当するか。それぞれ①～④の中から1つずつ選びなさい。

十二表法が制定される。

- ① A                      ② B                      ③ C                      ④ D

カルタゴの滅亡を目撃したポリビオスが、『歴史』（ローマ興隆史）を著す。

- ① B                      ② C                      ③ D                      ④ E

アウグストゥスの知遇を得たウェルギリウスが『アエネイス』を著す。

- ① C                      ② D                      ③ E                      ④ F

4 アウグスティヌスが『神の国』を著す。

- ① D                      ② E                      ③ F                      ④ G

5 『ローマ法大全』が編纂される。

- ① E                      ② F                      ③ G                      ④ H

(2) 次の 6 ～ 10 の問いに答えなさい。

6 下線部 6 の前後に活躍した文化人に関する説明として最も適切なものを、次の①～④の中から1つ選びなさい。

- ① ホラティウスは『叙情詩集（抒情詩集）』を残した。  
 ② 歴史家のキケロは『ローマ史』を著した。  
 ③ 雄弁家として名高いストラボンが、『国家論』などを著した。  
 ④ リウィウスは『地理誌』を残した。

7 下線部 7 に関連して、ローマが築いた造営物として誤っているものを、次の①～④の中から1つ選びなさい。

- ① パンテオン                      ② ガール水道橋  
 ③ アップピア街道                      ④ パルテノン神殿

8 下線部 8 に関連して、2世紀に生存していた文化人に関する説明として最も適切なものを、次の①～④の中から1つ選びなさい。

- ① タキトゥスは『ガリア戦記』を著した。  
 ② プトレマイオスは地動説を唱えた。  
 ③ プルタルコスが『対比列伝』を著した。  
 ④ エピクテトスは自然哲学を創始した。

9 下線部 9 に関する説明として最も適切なものを、次の①～④の中から1つ選びなさい。

- ① 元首政（プリンキパトゥス）を開始した。  
 ② ストア派哲学者としても名高く、『自省録』を残した。  
 ③ キリスト教を国教とした。  
 ④ 四帝分治制（四分統治制）を行った。

10 下線部 10 で異端とされた説を、次の①～④の中から1つ選びなさい。

- ① アリウス派  
 ② アタナシウス派  
 ③ 単性論  
 ④ ネストリウス派

Ⅱ イスラーム諸王朝について述べた次の文章を読み、また下の地図を見て(1)～(10)の問いに答えなさい。

13世紀末にアナトリア（小アジア）で誕生した<sup>11</sup>オスマン帝国は、<sup>12</sup>14世紀中にバルカン半島への進出を強めていったが、15世紀初頭にティムール朝に大敗を喫し、危機的状況に陥った。しかしまもなく体制を立て直し、1453年にはメフメト2世がコンスタンティノープルを攻略してビザンツ帝国を滅ぼした。16世紀にはセリム1世が<sup>13</sup>マムルーク朝を滅ぼし、スレイマン1世のとき最盛期となった。その東方のイラン地方では、16世紀初頭に<sup>14</sup>サファヴィー朝が成立し、当初はオスマン帝国に圧迫されたが、16世紀後半に現れた<sup>15</sup>アッバース1世が領土拡張に成功し、<sup>16</sup>イスファハーンを壮麗な首都に築き上げた。その東方のインドでも16世紀に新しい国家が誕生した。それはティムールの子孫である 17 が建てたムガル帝国であり、第3代<sup>18</sup>アクバルのとき中央集権体制が整えられ、以後、<sup>19</sup>インド＝イスラーム文化の繁栄期を迎えた。ムガル帝国は、アウラングゼーブの時代に最大領域となったが、厳格なスンナ派信仰に基づく彼の統治が諸勢力の反発を招き、急速に衰退することになった。



(1) 下線部11について述べた文として誤っているものを、次の①～④の中から1つ選びなさい。

11

- ① キリスト教徒の子弟をイスラーム教に改宗させ、アミールと呼ばれる軍隊を編成した。
- ② 騎士の軍事奉仕に対する代償として、徴税権が認められた土地が与えられた。
- ③ 同盟国となったフランスに対し、カピチュレーションと呼ばれる特権を与えた。
- ④ 帝国内に住むキリスト教徒やユダヤ教徒の共同体（ミット）に、自治を認めた。





(9) 下線部19に関連して、ヒンディー語にペルシア語・アラビア語が融合して成立した言語を、次の

①～④の中から1つ選びなさい。 19

- ① ウルドゥー語      ② タミル語      ③ アラム語      ④ スワヒリ語

(10) 地図上の a は、第2次ウィーン包囲に失敗したオスマン帝国が、オーストリアへの領土割譲を認めた条約が締結された都市である。この条約の名と、オーストリアに割譲した地方の名の組合せとして最も適切なものを、次の①～④の中から1つ選びなさい。 20

- ① トルコマンチャーイ条約 — ハンガリー  
② トルコマンチャーイ条約 — ブルガリア  
③ カルロヴィッツ条約 — ハンガリー  
④ カルロヴィッツ条約 — ブルガリア

Ⅲ フランス革命とナポレオンに関する(1)~(10)の文 a・b の正誤を判断し、下の例にしたがってマークしなさい。

例	aのみが正しい場合	—————	①
	bのみが正しい場合	—————	②
	a・bともに正しい場合	—————	③
	a・bともに誤りの場合	—————	④

- (1)
- a アンシャン=レジームのもとで、税負担が最も重かった貴族の不満が高まった。  
b 第三身分を構成する聖職者は、免税の特権を持っていた。
- (2)
- a 『第三身分とは何か』を著したシェイエスは、第三身分を抑圧すべきことを訴えた。  
b 三部会から分離して成立した国民公会は、憲法制定をめざした。
- (3)
- a 人権宣言が発せられ、人間の自由・平等、主権在民の原則が明示された。  
b 国王ルイ16世は、王妃マリ=アントワネットの出身国であるイギリスへの逃亡をはかった。
- (4)
- a 1791年憲法の制定に伴い、立法議会が成立した。  
b ジロンド派政権は、オーストリアへ宣戦布告した。
- (5)
- a 1792年の8月10日事件では、王権が停止された。  
b ルイ16世が処刑されると、第一共和政が始まった。
- (6)
- a イギリス首相ピットは、フランス革命の波及を恐れて対仏大同盟を結成した。  
b ロベスピエールが指導するジャコバン政権は、最高価格令による物価統制を行った。
- (7)
- a 1795年憲法に基づき、総裁政府が成立した。  
b 総裁政府のもとで、バブーフは帝政樹立をはかったが、失敗した。

(8)

- a ナポレオンは、テルミドールのクーデタで実質上の独裁権力を握った。
- b ナポレオンは、イギリス・インド間の連絡遮断をはかってエジプトへ遠征した。

(9)

- a アウステルリッツの戦いに敗れたナポレオンは、トラファルガーの海戦では勝利した。
- b ナポレオンと屈辱的な条約を結ばされたプロイセンでは、近代化をめざす改革が行われた。

(10)

- a ナポレオンは、大陸封鎖令に違反したロシアをライプツィヒの戦いで破った。
- b 一時失脚したナポレオンは、セントヘレナを脱出して帝位に復帰した。

#### Ⅳ 台湾の歴史について述べた次の文章を読み、(1)～(10)の問いに答えなさい。

17世紀、世界貿易の覇権を握った<sup>31</sup>オランダが台湾を占領し、交易の拠点とした。同世紀後半になると、「反清復明」をめざす鄭成功がオランダを駆逐し、台湾を拠点として清へ抵抗した。しかし康熙帝は1683年に鄭氏を滅ぼして台湾を占領し、行政機関を設けて福建省の統治下に置いた。19世紀後半になると<sup>32</sup>日本が介入を始める。台湾に漂着した琉球人が台湾人に殺害された事件を機に、日本は1874年に台湾出兵を行い、当時日中両属の状態だった琉球が日本領であることを強調し、台湾進出の機会も伺う姿勢を示した。その後まもない1879年に日本は沖縄県を設置して日本への琉球併合を決定的にした。次いで日本は日清戦争に勝利し、下関条約で台湾を獲得した。ここから1945年まで、台湾は日本の統治下に置かれることになる。その間、上下水道の整備、ダム建設など台湾のインフラ整備が進んだ。

日本が<sup>33</sup>太平洋戦争に敗北して撤退すると、中国国民党の<sup>34</sup>蒋介石が率いる中華民国（南京国民政府）が統治権を及ぼしたが、当初、軍人・官吏の腐敗が甚だしく、「本省人」（従来の台湾住民）と「外省人」（国民党とともに中華民国から移住してきた人々）の対立が生じた。1947年には、外省人に対する本省人の蜂起が起こり、これに対し蒋介石は容赦ない弾圧を行い、多数を処刑した。これを二・二八事件という。さらに<sup>35</sup>1949年には共産党に敗れた蒋介石政権が本格的に台湾に押し寄せ、国民党による戒厳令下の統治が続くことになった。1950年に朝鮮戦争が起こると<sup>36</sup>反共体制の強化に努めるアメリカは、台湾と米華相互防衛条約を結び、台湾はアジアにおける反共の拠点の一つとなった。

1971年に中国の<sup>37</sup>国際連合代表権が中華民国から中華人民共和国に移行すると、台湾は国連はじめ多数の国際機関から追放され、翌1972年にはアメリカの<sup>38</sup>ニクソン大統領が中華人民共和国を訪問して同国を承認し、日本の田中角栄首相も訪中して日中国交正常化を実現（台湾とは国交断絶）するという激変に見舞われたが、日米との民間交易は従来通り継続した。蒋介石の死後、総統の地位は子の蔣経国が継承したが、経国が死去した1988年、初めての「本省人」総統である [ 39 ] が誕生し、ここから民主化が進んだ。そして1996年には初の総統選挙が行われて [ 39 ] があらためて選任された。さらに2000年には民主進歩党（民進党）の [ 40 ] が総統に当選し、ここに初めて国民党以外の総統が登場した。彼は台湾の独立を追求したが、中華人民共和国は激しくその動きに抵抗した。その後国民党が復活したあと、2016年に再び民進党政権ができたが、これに対する中国の態度は冷ややかなものがある。

(1) 下線部31に関連して、17世紀にオランダが築いた植民地として誤っているものを、次の①～④の中から1つ選びなさい。 [ 31 ]

- |          |              |
|----------|--------------|
| ① ケープ植民地 | ② マドラス       |
| ③ バタヴィア  | ④ ニューアムステルダム |

(2) 下線部32に関連して、19世紀後半から20世紀初頭の日本について述べた文として最も適切なものを、次の①～④の中から1つ選びなさい。 32

- ① 日英同盟を結んだことにより、鎖国を解除した。
- ② 甲申政変の際の朝鮮出兵から、日清戦争に突入した。
- ③ 日露戦争の際に、中国へ二十一カ条の要求を提出した。
- ④ ポーツマス条約により、韓国に対する指導・監督権を獲得した。

(3) 下線部33の最中の1943年に、米・英・中の首脳が、台湾その他の領有を日本に放棄させることなどの対日処理方針を定めた会談の名を、次の①～④の中から1つ選びなさい。 33

- ① カイロ会談
- ② ヤルタ会談
- ③ ポツダム会談
- ④ テヘラン会談

(4) 下線部34について述べた文として最も適切なものを、次の①～④の中から1つ選びなさい。

34

- ① 北伐を指導し、その途上で上海クーデタを起こした。
- ② 北京政権を担っていた張作霖を爆殺した。
- ③ 満州事変後、八・一宣言を発した。
- ④ 日中戦争中、北京へ遷都して日本に抵抗した。

(5) 下線部35の年の出来事として最も適切なものを、次の①～④の中から1つ選びなさい。 35

- ① マーシャル=プランの発表
- ② NATOの結成
- ③ ワルシャワ条約機構の結成
- ④ キューバ危機の発生

(6) 下線部36に関連して、アメリカ主導で成立した反共体制の例として誤っているものを、次の①～④の中から1つ選びなさい。 36

- ① 太平洋安全保障条約 (ANZUS)
- ② 日米安全保障条約
- ③ 東南アジア条約機構 (SEATO)
- ④ マーストリヒト条約

(7) 下線部37を発足させた会議の名を、次の①～④の中から1つ選びなさい。 37

- ① ベルリン会議
- ② ワシントン会議
- ③ サンフランシスコ会議
- ④ ロンドン会議

(8) 下線部38について述べた文として最も適切なものを、次の①～④の中から1つ選びなさい。

38

- ① ソ連と中距離核戦力（INF）全廃条約を結んだ。
- ② ドルと金の交換を停止した。
- ③ 公民権法を制定した。
- ④ 北ベトナム爆撃を開始した。

(9) 空欄 39 に該当する人物名を、次の①～④の中から1つ選びなさい。 39

- ① 李大釗                      ② 李登輝                      ③ 李鴻章                      ④ 李成桂

(10) 空欄 40 に該当する人物名を、次の①～④の中から1つ選びなさい。 40

- ① 鄭和                          ② 鄭玄                          ③ 陳独秀                      ④ 陳水扁

世界史の問題はここまでです

# 地 理

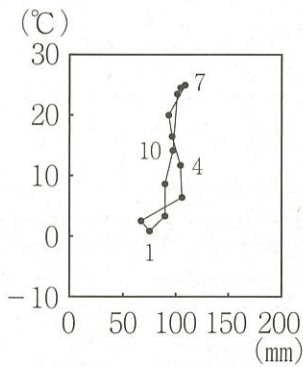
この問題はIからIVまであります。解答用紙には問題番号が  から  までありますが、解答に使用する問題番号は  から  までです。

I 温帯の自然環境と人々の暮らしに関する  ～  に答えなさい。

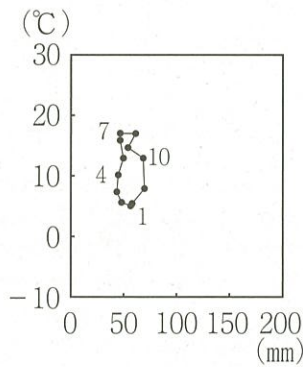


図 1

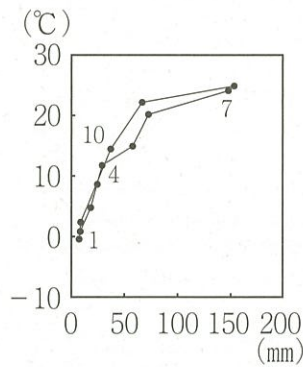
図 1 中に示されたロンドン、チンタオ、シアトル、ニューヨークにおけるハイサーグラフのうち、ロンドンに該当するものを、次の①～④から一つ選びなさい。



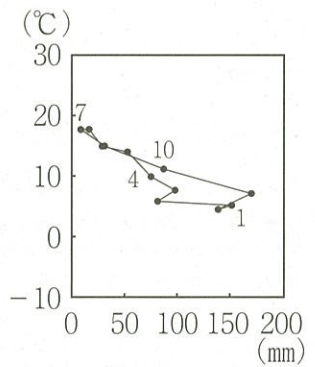
①



②



③



④

気象庁資料により作成

2 ケッペンの気候区分における温帯気候区の分布に関する説明文として最も適切なものを、次の①～④から一つ選びなさい。

- ① ニュージーランドでは、地中海性気候区が最も広い面積を占める。
- ② フランスでは、西岸海洋性気候区が最も広い面積を占める。
- ③ チリでは、温暖湿潤気候区が最も広い面積を占める。
- ④ ウルグアイでは、温暖冬季少雨気候区が最も広い面積を占める。

3 温暖湿潤気候に関する説明文として最も適切なものを、次の①～④から一つ選びなさい。

- ① ブナの生育する範囲と分布域が重なるため「ブナ気候」ともよばれる。
- ② 降水量の季節変化が大きく、明瞭な雨季と乾季がみられる。
- ③ 年間を通じて偏西風の影響を強く受けるため、気温の年較差は小さい。
- ④ 温帯低気圧などにより年中降雨があるが、熱帯低気圧の影響を受ける地域もある。

4 地中海性気候に関する説明文として最も適切なものを、次の①～④から一つ選びなさい。

- ① 冬は偏西風が低緯度側から移動し、低気圧の活動が活発になるため降水量が多い。
- ② 夏は亜熱帯高圧帯の影響下に入り、日ざしが強く高温で乾燥する。
- ③ 主に大陸西岸のサバナ気候区の高緯度側に隣接して分布する。
- ④ 夏の乾燥に強い単一または少数の樹種からなるタイガがみられる。

5 温暖冬季少雨気候に多くみられる常緑広葉樹林の樹種として最も適切なものを、次の①～④から一つ選びなさい。

- ① ナラ
- ② 月桂樹
- ③ ヒノキ
- ④ シイ

6 次の説明文に該当する土壌として最も適切なものを、下の①～④から一つ選びなさい。

説明文：

成帯土壌であり、温帯の混合林や落葉広葉樹林の地域に分布する。落葉の堆積による比較的厚い腐植層を含み、肥沃度は中程度である。

- ① チェルノーゼム
- ② 褐色森林土
- ③ 栗色土
- ④ レス

7 図1中の地域A、Bの農業に関する説明文として最も適切なものを、次の①～④から一つ選びなさい。

- ① Aでは、小麦やとうもろこしを大規模に生産する企業的な農業が盛んである。
- ② Aでは、チンリン＝ホワイ川線を境に、北では稲作、南では畑作が盛んである。
- ③ Bでは、灌漑かんがいの普及により、果樹や野菜などの集約的な農業が盛んである。
- ④ Bでは、コットンベルトとよばれる農業地域が形成され、綿花栽培が盛んである。



- 8 次の表1は、主に温帯で行われる農業の樹木作物（ぶどう、オリーブ）の生産量上位4か国と世界生産量に占める割合を示したものである。表中のXに該当する国名を、下の①～④から一つ選びなさい。

表1

	ぶどう		オリーブ	
		(%)		(%)
1位	中国	16.8	スペイン	29.6
2位	アメリカ合衆国	9.6	X	12.8
3位	X	9.3	ギリシャ	11.6
4位	スペイン	8.4	トルコ	11.5

統計年次は2014年。

世界国勢図会2017/18により作成

- ① イタリア      ② オランダ      ③ メキシコ      ④ アルゼンチン

- 9 温帯に位置する国の伝統的な食文化に関する説明文として最も適切なものを、次の①～④から一つ選びなさい。

- ① 中国では、大豆の粉をめんにしたビーフンとよばれる料理が食される。  
 ② ドイツでは、じゃがいもを乾燥させたチューニョを保存食としてきた。  
 ③ フランスでは、とうもろこしを粉にして焼いたトルティーヤとよばれる料理が食される。  
 ④ スペインでは、米と魚介類などを一緒に炊きあげたパエリアとよばれる料理が食される。

- 10 酸性雨に関する説明文として最も適切なものを、次の①～④から一つ選びなさい。

- ① 温帯では偏西風の影響により、汚染源の発生地より西側で被害が深刻化する。  
 ② 酸性雨は、メタンやフロンにより降水が酸性化することで発生する。  
 ③ 森林の枯死、土壌や湖沼の酸性化、コンクリートの建物や野外の彫像が溶ける被害がみられる。  
 ④ 東アジアでは酸性雨に対処するため、長距離越境大気汚染防止条約が日本、中国、韓国により締結された。

- 11 図1中の地域ア～エのうち、酸性雨の被害が目立つ地域として最も適切なものを、次の①～④から一つ選びなさい。

- ① ア      ② イ      ③ ウ      ④ エ

Ⅱ 世界の農業，食料問題に関する 12 ～ 22 に答えなさい。

12 とうもろこし，ぶどう，稲，小麦のうち，栽培限界が最も高緯度に位置する作物として適切なものを，次の①～④から一つ選びなさい。

- ① とうもろこし      ② ぶどう              ③ 稲                      ④ 小麦

13 世界における穀物の生産や流通，消費の特徴に関する説明文として最も適切なものを，次の①～④から一つ選びなさい。

- ① 米は年降水量1,000mm以上で，肥沃な黒色土の分布する地域での生産が多い。  
 ② 南半球に位置する国々には，北半球の端境期<sup>はごかいき</sup>に小麦を輸出できる利点がある。  
 ③ 大豆は豆腐や味噌の原料となるため，日本の輸入量は2013年現在世界最大である。  
 ④ とうもろこしは世界的な人口増加により，飼料用よりも食用の消費量が多くなった。

14 次の表1は，中国，インド，ナイジェリア，アメリカ合衆国における米（精米）の輸出量，1 haあたり米（もみ）の収量，1人あたり米の供給量を示したものである。インドに該当するものを，表中の①～④から一つ選びなさい。


表 1

	輸出量 (t)	1 ha あたり収量 (t)	1 人あたり供給量 (kg/年)
①	3,315,836	8.11	6.88
②	124	2.03	28.23
③	459,749	6.94	78.18
④	9,869,281	3.70	69.49

統計年次は，輸出量と1 haあたり収量は2016年，1人あたり供給量は2013年。

FAOSTATにより作成

15 次の図1は，とうもろこし，ばれいしょ，大麦，ライ麦のいずれかの大陸別生産量割合を示したものである。この図に該当する作物を，次の①～④から一つ選びなさい。



統計年次は2014年。ヨーロッパにはロシアを含む。

世界国勢図会2017/18により作成

図 1

- ① とうもろこし      ② ばれいしょ              ③ 大麦                      ④ ライ麦

16 次の表2は、大豆の輸出量、とうもろこしの輸入量上位4か国と世界に占める割合を示したものである。表中のP、Qに該当する国名の組み合わせとして最も適切なものを、下の①～④から一つ選びなさい。

表2

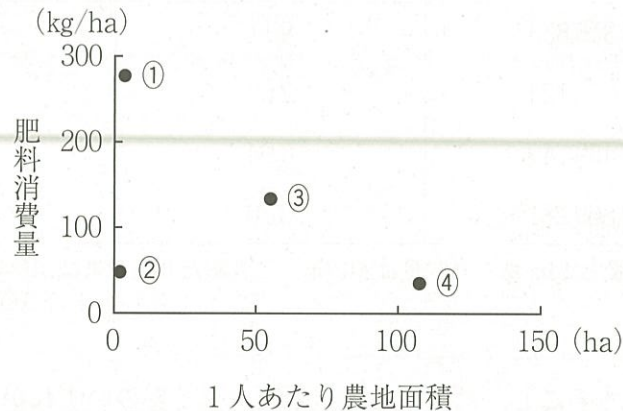
	大豆の輸出量 (%)		とうもろこしの輸入量 (%)	
1位	アメリカ合衆国	42.8	Q	10.3
2位	P	38.2	メキシコ	9.5
3位	アルゼンチン	6.6	韓国	6.6
4位	パラグアイ	4.0	ベトナム	5.4

統計年次は2016年。

世界国勢図会2018/19により作成

- ① P ブラジル Q 日本                      ② P オーストラリア Q 日本  
 ③ P ブラジル Q 中国                      ④ P オーストラリア Q 中国

17 次の図2は、日本、ケニア、フランス、アルゼンチンの耕地1haあたり肥料消費量と農林水産業従事者1人あたり農地面積を示したものである。フランスに該当するものを、図中の①～④から一つ選びなさい。



統計年次は2013年。世界国勢図会2016/17により作成

図2

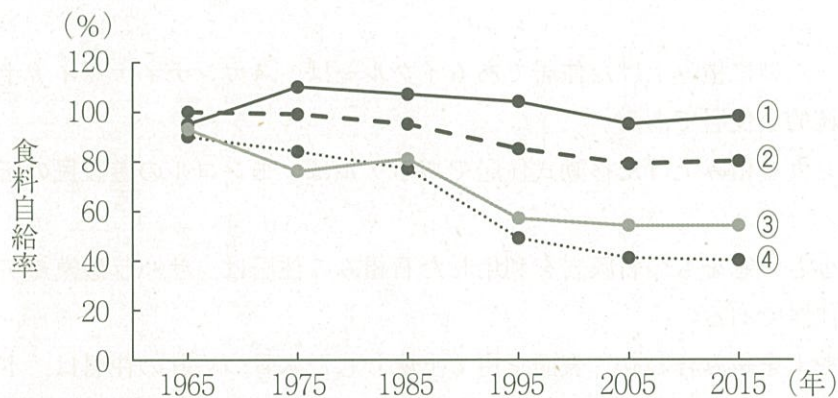
18 アメリカ合衆国の農業における問題点や近年の状況に関する説明文として最も適切なものを、次の①～④から一つ選びなさい。

- ① 傾斜地で等高線耕作をおこなった結果、土壌侵食や肥料の流出がみられるようになった。  
 ② グレートプレーンズでは乾燥農法を導入した結果、過剰な灌漑による地下水の枯渇や土壌の塩性化が起きている。  
 ③ 緑の革命によって農作物の生産量が増大したが、農民間の所得格差が拡大した。  
 ④ バイオエタノールの利用が盛んであり、とうもろこしが主な原料となっている。

19 カナダ、インド、オーストラリア、スイスの農牧業に関する説明文として最も適切なものを、次の①～④から一つ選びなさい。

- ① カナダのプレーリーでは企業的穀物農業が盛んであり、主に冬小麦が栽培されている。
- ② インドのパンジャブ地方ではプランテーション農業が盛んであり、主に茶が栽培されている。
- ③ オーストラリアのグレートアーテジアン盆地では企業的牧畜業が盛んであり、主に羊が放牧されている。
- ④ スイスのアルプス地域では遊牧が盛んであり、主に乳牛が放牧されている。

20 次の図3は、日本における米、野菜、果実、肉類の食料自給率（重量ベース）の推移を示したものである。野菜に該当するものを、図中の①～④から一つ選びなさい。



平成27年度食料需給表により作成

図3

21 食料問題に関する説明文として最も適切なものを、次の①～④から一つ選びなさい。

- ① 日本は降水量が多いため、バーチャルウォーターの輸入量は世界的にみて少ない。
- ② 日本では安全性への懸念から、遺伝子組み換え作物の輸入が禁止されている。
- ③ フェアトレードにより食品の流通経路の追跡が可能になり、食の安全性が高まった。
- ④ 地産地消に取り組むことで、フードマイレージの値は小さくなる。

22 世界の食料供給や食料価格に関する説明文として最も適切なものを、次の①～④から一つ選びなさい。

- ① 世界的にみると、近年における1人あたりの食料生産量は継続的に増加している。
- ② 世界的な肉類の消費量増大は穀物の消費量を減少させ、穀物価格の低下につながる。
- ③ 東南アジアでは、1960年代から高収量品種のネリカ米が普及し食料生産が増大した。
- ④ 主にFAOやWTOを通じて、食料不足をかかえる国に対し食料援助が行われる。

Ⅲ 世界の生活文化、民族、宗教、国家に関する 23 ～ 33 に答えなさい。

23 次の説明文に該当する民族衣装を伝統的に着用する国として最も適切なものを、下の①～④から一つ選びなさい。

説明文：

通気性や吸湿性にすぐれた木綿や麻を素材とした細長い布で、体を包むように着用するサリーとよばれる女性の民族衣装。

- ① インド                      ② ケニア                      ③ ペルー                      ④ ベトナム

24 世界にみられる伝統的な住居に関する説明文として最も適切なものを、次の①～④から一つ選びなさい。

- ① 氷雪をドーム型に積み上げた住居であるイグルーは、スカンディナヴィア半島北部に住むサーミの伝統的な住居である。  
 ② 日干しレンガを積み上げた移動式住居であるゲルは、モンゴルの遊牧民の伝統的な住居である。  
 ③ 白い壁や小さい窓をもつ石灰岩を利用した石組みの住居は、サハラ砂漠やアラビア半島での伝統的な住居である。  
 ④ 木材と石や土を組み合わせ、表面を白く上塗りした木骨<sup>もっこ</sup>づくりの住居は、ドイツやフランス北部での伝統的な住居である。

25 世界で使用される言語に関する説明文として最も適切なものを、次の①～④から一つ選びなさい。

- ① イランでは、アラブ民族の言語であるアラビア語を使用する人が最も多い。  
 ② ルーマニアでは、スラブ系民族の言語であるルーマニア語を使用する人が最も多い。  
 ③ アルゼンチンでは、旧宗主国の言語であるポルトガル語を使用する人が最も多い。  
 ④ キューバでは、旧宗主国の言語であるスペイン語を使用する人が最も多い。

26 次の表2は、スイスとベルギーの公用語を示したものである。空欄Aに該当する言語を、下の①～④から一つ選びなさい。

表2

	公用語
スイス	ドイツ語, A, イタリア語, ロマンシュ語
ベルギー	オランダ語, A, ドイツ語

- ① スペイン語                      ② 英語                      ③ フランス語                      ④ ケルト語

27 世界の宗教分布に関する説明文として最も適切なものを、次の①～④から一つ選びなさい。

- ① キリスト教は、ラテンアメリカではカトリック、アングロアメリカやフィリピンではプロテスタントが広く信仰される。
- ② イスラム教は、イランやインドネシアではシーア派、北アフリカや西アジアではスンナ派が広く信仰される。
- ③ 仏教は、東南アジアでは上座仏教、東アジアやスリランカでは大乘仏教が広く信仰される。
- ④ ヒンドゥー教は民族宗教であり、インドを中心とした限られた地域で信仰される。

28 国家の形態が連邦国家に該当する国を、次の①～④から一つ選びなさい。

- ① ブラジル
- ② 日本
- ③ イタリア
- ④ フランス

29 2つの国の国境の大部分が経線または緯線を利用している国の組み合わせとして最も適切なものを、次の①～④から一つ選びなさい。

- ① ラオスとタイ
- ② インドネシアとパプアニューギニア
- ③ ルーマニアとブルガリア
- ④ チリとアルゼンチン

30 国家間の結びつきに関する説明文として最も適切なものを、次の①～④から一つ選びなさい。

- ① ASEAN は、東ティモールを除いた東南アジア10か国が加盟し、経済面・社会面で協力しながら発展を続けているが、加盟国間の経済格差は大きい。
- ② APEC は、アジアや太平洋諸国、EU 諸国が参加し、貿易・投資の自由化と技術移転などで、地域協力の推進を目指している。
- ③ NAFTA では、関税の撤廃だけでなく労働力の移動も自由化したため、メキシコからアメリカ合衆国への移民が急増している。
- ④ MERCOSUR は、ブラジルやメキシコなどラテンアメリカ6か国が加盟する地域経済統合であり、2014年の域内 GDP は ASEAN を上回る。

31 次の図1中の地域A～Dにみられる民族、領土問題に関する説明文として最も適切なものを、下の①～④から一つ選びなさい。

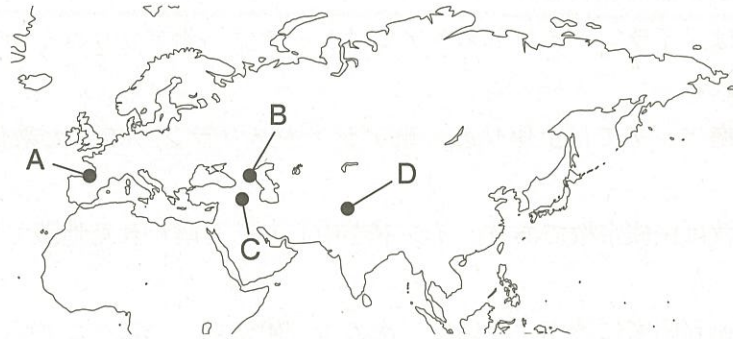


図1

- ① Aでは、スペインとフランスの国境地帯に住むクルド人が、独立運動を展開している。
- ② Bでは、ムスリムが多数を占めるチェチェン人が、ロシアからの独立を求めて紛争となった。
- ③ Cでは、トルコ・イラク・イランなどにまたがる山岳地域に暮らすベルベル人が、自治権の拡大や独立を求めている。
- ④ Dでは、カシミールの帰属をめぐり、ヒンドゥー教徒とキリスト教徒が対立している。

32 各国の民族問題に関する説明文として最も適切なものを、次の①～④から一つ選びなさい。

- ① オーストラリアでは多文化主義を掲げ、先住民のアボリジニの自治州であるヌナブト準州を設立した。
- ② カナダでは多文化主義がとられているが、スペイン系住民が多いケベック州では分離独立を求める動きもある。
- ③ 中国では少数民族の多い地域に民族自治区を設け、中国語以外にも多数の少数民族の言語を公用語としている。
- ④ スリランカでは、仏教徒であるシンハラ人とヒンドゥー教徒であるタミル人との間で内戦状態にあったが、現在は終結し復興が進んでいる。

33 日本の領土問題や領域に関する説明文として最も適切なものを、次の①～④から一つ選びなさい。

- ① 日本固有の領土である樺太や、択捉島・国後島・色丹島・歯舞群島の北方四島は、ロシアによる占拠が続いており、日本は返還を求めている。
- ② 日本固有の領土である竹島は中国が占拠し、領有権を主張している。
- ③ 日本の排他的経済水域は国土面積よりも広く、メタンハイドレートなどの資源の存在が確認されている。
- ④ 日本の南端である沖ノ鳥島は、北回帰線よりも高緯度側に位置する。

IV アフリカに関する 34 ~ 45 に答えなさい。

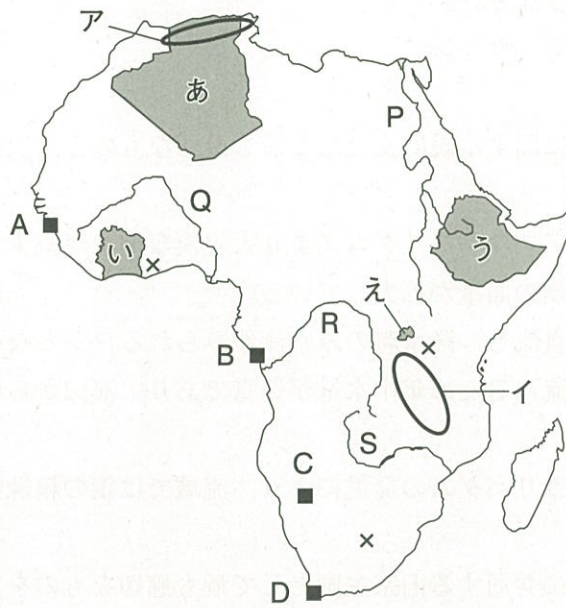
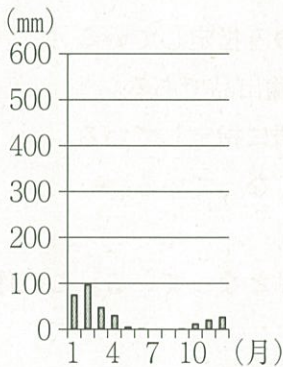
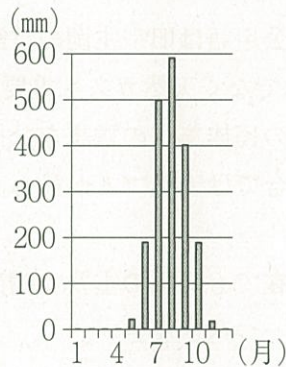


図 1

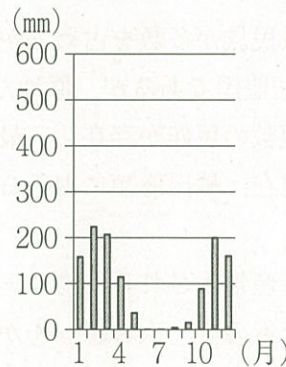
34 次の図は、図 1 中の地点 A ~ D のいずれかにおける月別降水量の変化を示したものである。地点 D に該当するものを、次の ① ~ ④ から一つ選びなさい。



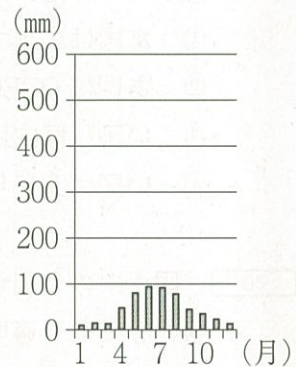
①



②



③



④

理科年表 (平成28年) により作成

35 図 1 中の地域ア、イの地形に関する説明文として最も適切なものを、次の ① ~ ④ から一つ選びなさい。

- ① アは新期造山帯に位置し、アフリカ大陸最高峰のキリマンジャロ山が存在する。
- ② アは古期造山帯に位置し、標高の低いなだらかな山脈が存在する。
- ③ イはプレートの狭まる境界に位置し、活発な火山活動がみられる。
- ④ イは大地溝帯に位置し、断層運動によって形成された断層湖が存在する。



36 図1中の×はある鉱産資源の産出地を示している。この鉱産資源として最も適切なものを、次の①～④から一つ選びなさい。

- ① 鉄鉱石                      ② ウラン                      ③ 金                      ④ ボーキサイト

37 図1中の河川P～Sに関する説明文として最も適切なものを、次の①～④から一つ選びなさい。

- ① P川に建設されたアスワンハイダムにより大規模な洪水が減少した結果、河口付近では土砂の堆積が進み三角州の面積が拡大している。  
② Q川は乾燥地帯を貫流し、降水時のみ水流がみられるワジとなっている。  
③ R川は熱帯地域を流れるため年中水量が豊富であり、河口から中流のコンゴ盆地まで船舶の航行が可能である。  
④ S川に建設されたカリバダムの発電により、流域では銅の精錬業が発達した。

38 図1中のあ国とい国に共通する旧宗主国として最も適切なものを、次の①～④から一つ選びなさい。

- ① フランス                      ② イギリス                      ③ スペイン                      ④ イタリア

39 図1中のあ国とい国の民族や言語、貿易に関する説明文として最も適切なものを、次の①～④から一つ選びなさい。

- ① あ国はアラブ系民族が多数を占めるが、公用語は旧宗主国の言語のみ指定している。  
② あ国はOPEC加盟国であるが、原油だけでなく天然ガスも重要な輸出品である。  
③ い国は国内に複数の民族が存在し、最大の民族集団の言語を公用語に指定している。  
④ い国は2015年現在、輸出総額に占める割合では天然ゴムが最も高くなっている。

40 図1中のう国が原産地とされる作物は、現在でも同国の重要な輸出品となっている。この作物として最も適切なものを、次の①～④から一つ選びなさい。

- ① カカオ                      ② 茶                      ③ コーヒー                      ④ 落花生

41 図1中のえ国に関する説明文として最も適切なものを、次の①～④から一つ選びなさい。

- ① 「アラブの春」とよばれる民主化運動がおこり独裁政権が倒れた。  
② 少数派のツチ族と多数派のフツ族の対立による内戦が発生した。  
③ 資源をめぐり、イボ族・ハウサ族・ヨルバ族など民族間での内戦が発生した。  
④ キリスト教徒とイスラム教徒の対立が続いていたが、キリスト教徒中心の地域が分離独立した。



45 次の表2は、南アフリカ共和国、ボツワナ、ナイジェリア、モロッコの輸出額上位4品目と輸出額全体に占める割合（%）を示したものである。南アフリカ共和国に該当するものを、表中の①～④から一つ選びなさい。

表2

	①		②		③		④	
1位	自動車	11.6	原油	72.9	機械類	17.1	ダイヤモンド	82.6
2位	機械類	9.8	液化天然ガス	8.5	衣類	12.7	ニッケル鉱	5.1
3位	白金族	9.3	石油製品	6.1	自動車	12.0	機械類	3.1
4位	鉄鋼	6.5	液化石油ガス	2.2	化学肥料	8.5	肉類	1.9

統計年次は2015年、ナイジェリアは2014年。

世界国勢図会2017/18により作成

地理の問題はここまでです

このページは余白です。

# 数 学①

## 解答にあたっての注意

次の  ~  の1つ1つには、0から9までの数字または負の符号-のいずれかが入る。それらを解答用紙の  ~  にマークして答えなさい。ただし、分数はすべて既約分数で答え、負の分数のときは符号を分子につけなさい。また、根号の中の数は最も小さい自然数を用いて答えなさい。

### I

- (1)  $m$  を実数の定数とする。

2次方程式  $2x^2 - 2(m-1)x + 1 = 0$  が  $0 < x < 2$  に異なる2つの実数解をもつとき、

$m$  の値の範囲は  +  $\sqrt{\text{$ } < m < \frac{\text{} \text{}}{\text{} である。

- (2)  $a, b$  を実数の定数とする。

$a > 0$  とする2次方程式  $x^2 + ax + b = 0$  の2つの解  $\alpha, \beta$  が

$\frac{1}{\alpha} + \frac{1}{\beta} = 1, (\alpha - \beta)^2 = 5$  を満たすとき、 $(a, b) = (\text{}, \text{} \text{)}$  である。

- (3) 不等式  $\log_{\frac{1}{3}}(3-x) \geq \log_{\frac{1}{9}}(x-2) - \log_3 2$  の解は

-   $\sqrt{\text{$ } \leq x < \text{ である。

- (4) 点  $(-3, 2)$  を通り、直線  $3x - 4y - 12 = 0$  とのなす角が  $45^\circ$  である直線の方程式で、傾きが整数であるものは、 $y = \text{}x + \text{} \text{$  である。

- (5)  $a_1 = 2, a_{n+1} = a_n + 2^n - 6n$  ( $n = 1, 2, 3, \dots$ ) で定められる数列  $\{a_n\}$  の一般項は

$a_n = \text{$   $^n - \text{$   $n^{\text{$ } + \text{  $n$  である。

計算用紙



II 正十二角形の 12 個の頂点のうち，異なる 3 個の頂点を結んで三角形を作る。

(1) 三角形は全部で 

20	21	22
----	----	----

 個ある。

(2) 三角形の中から，無作為に 1 個を選び，事象  $A$ ， $B$ ， $C$  を以下のように定める。

$A$  : 選ばれた三角形が正三角形である。

$B$  : 選ばれた三角形が直角三角形である。

$C$  : 選ばれた三角形が二等辺三角形である。

1) 事象  $A$ ， $B$ ， $C$  が起こる確率はそれぞれ  $\frac{\text{23}}{\text{24} \quad \text{25}}$ ， $\frac{\text{26}}{\text{27} \quad \text{28}}$ ， $\frac{\text{29} \quad \text{30}}{\text{31} \quad \text{32}}$  である。

2) 事象  $C$  が起こったときに事象  $B$  が起こる条件付き確率は  $\frac{\text{33}}{\text{34} \quad \text{35}}$  である。

計算用紙

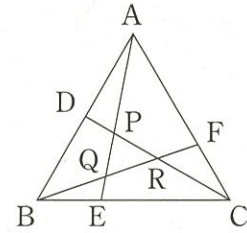


## Ⅲ

- (1) 円に内接する四角形 ABCD において、 $AB = 1$ 、 $BC = 2$ 、 $CD = 4$ 、 $DA = 3$  とするとき、

$$\cos \angle BAD = \frac{\boxed{36} \ \boxed{37}}{\boxed{38} \ \boxed{39}} \text{ であり、四角形 ABCD の面積は } \boxed{40} \sqrt{\boxed{41}} \text{ である。}$$

- (2) 図のような三角形 ABC において、辺 AB の中点を D、  
 辺 BC、CA を 1 : 2 に内分する点をそれぞれ E、F とし、  
 線分 AE と線分 CD、BF の交点をそれぞれ P、Q、線分  
 BF と線分 CD の交点を R とする。



このとき、 $\frac{QA}{EQ} = \boxed{42}$ 、 $\frac{PC}{DP} = \boxed{43}$  であり、三角形 ABC の面積を  $S$  とすると、三角

形 PQR の面積は  $\frac{\boxed{44}}{\boxed{45} \ \boxed{46} \ \boxed{47}} S$  である。

- (3) 座標空間において、3点  $O(0, 0, 0)$ 、 $A(1, -2, -1)$ 、 $B(0, 3, 2)$  を通る平面  
 を  $\alpha$  とし、2点  $C(4, 1, 1)$ 、 $D(11, 2, 3)$  を通る直線を  $\ell$  とする。

直線  $\ell$  上の点 P は実数  $t$  を用いて、

$$\vec{OP} = \vec{OC} + t\vec{CD} = (\boxed{48}t + \boxed{49}, t + \boxed{50}, \boxed{51}t + \boxed{52}) \text{ と表されるので、}$$

平面  $\alpha$  と直線  $\ell$  の交点の座標は  $(\boxed{53} \ \boxed{54}, \boxed{55}, \boxed{56} \ \boxed{57})$  である。

計算用紙

IV  $a, b, k$  は定数とする。

3 次関数  $f(x) = x^3 + ax^2 + bx - 1$  と 1 次関数  $g(x) = k(x - 1)$  があり,  $f(x)$  は  $x = -1, \frac{1}{3}$  で極値をとる。

(1)  $a, b$  の値は  $a = \boxed{58}$ ,  $b = \boxed{59} \boxed{60}$  であり,  $f(x)$  の極大値は  $\boxed{61}$ , 極小値は  $\frac{\boxed{62} \boxed{63} \boxed{64}}{\boxed{65} \boxed{66}}$  である。

(2) 関数  $y = f(x)$  のグラフを  $C$ , 直線  $y = g(x)$  を  $l$  とすると,  $C$  と  $l$  は  $k$  の値にかかわらず, 定点  $P(\boxed{67}, \boxed{68})$  で交わる。また,  $C$  と  $l$  が異なる 3 点  $P, Q, R$  で交わり, 3 点が右から  $P, Q, R$  の順に並んでいるとき  $k$  の値の範囲は  $\boxed{69} < k < \boxed{70}$  である。さらに,  $k = 1$  のとき,  $C$  と  $l$  で囲まれた 2 つの部分の面積の和は  $\frac{\boxed{71} \boxed{72}}{\boxed{73} \boxed{74}}$  である。

数学の問題はここまでです

計算用紙

白 余 不 足

以下余白

---

---