

# 地理歴史・公民・数学

(1～61ページ)

## 注 意

1. 試験開始の合図があるまで、問題用紙を開いてはいけません。
2. この問題用紙には、次の5科目の問題が収められています。
  - 政 治・経 済 (1～14ページ)
  - 日 本 史 (15～27ページ)
  - 世 界 史 (29～38ページ)
  - 地 理 (39～54ページ)
  - 数 学 (55～61ページ)
3. 5科目の中から1科目を選択し、解答は解答用紙にマークしなさい。解答用紙は5科目共通です。解答用紙にはマーク式解答欄の番号が **1** ～ **75** までありますが、使用しない解答欄も含まれています。
4. 解答用紙に受験番号・氏名・選択科目を記入しなさい。  
 受験番号と選択科目は、下記の「受験番号欄記入例」「選択科目欄記入例」に従って正確にマークしなさい。
5. 試験時間は **60分** です。
6. 試験開始後、問題用紙に不備(ページのふぞろい・印刷不鮮明など)があったら申し出なさい。
7. 問題の内容についての質問には、いっさい応じられません。
8. 中途退出は認めません。試験終了後、この問題用紙は持ち帰りなさい。

### 受験番号欄記入例・選択科目欄記入例

受 験 番 号 欄				
Y	8	1	5	0
●	○	○	○	●
	①	●	①	①
	②	②	②	②
	③	③	③	③
	④	④	④	④
	⑤	⑤	●	⑤
	⑥	⑥	⑥	⑥
	⑦	⑦	⑦	⑦
	●	⑧	⑧	⑧
	⑨	⑨	⑨	⑨

数字の位置に注意してマークしなさい

アルファベットを除く4ケタの数字を記入しマークしなさい

「地理」を選択した場合

選 択 科 目 欄	
○	政 治・経 済
○	日 本 史
○	世 界 史
●	地 理
○	数 学

↑  
解答する1科目に必ずマークしなさい

### マーク式解答欄記入上の注意

1. 解答は、HBの黒鉛筆を使用して丁寧にマークしなさい。  
 《マーク例》  
 良い例 ●  
 悪い例 ⊕ ⊙ ⊗ ⊖ ○
2. 訂正する場合は、プラスチック消しゴムで、きれいにマークを消し取りなさい。
3. 所定の記入欄以外には、何も記入してはいけません。
4. 解答用紙を汚したり、折り曲げたりしてはいけません。

## 政治・経済

この問題はIからIVまであります。解答用紙には問題番号が  から  までありますが、解答に使用する問題番号は  から  までです。

I 次の文章を読み、問いに答えなさい。

憲法を用いて国家権力の暴走を抑制するという考え方を立憲主義という。絶対王政においては、絶対君主による専制的な支配が行われていたが、こうした「 の支配」に対して、統治者といえども「<sup>(ア)</sup>法の支配」を受けるという理念が<sup>(イ)</sup>市民革命を通じて確立した。

日本国憲法も、こうした原理に則っている。例えば、日本国憲法第98条1項は、憲法自身を「国の 」と位置づけ、「その<sup>(ウ)</sup>条規に反する法律、命令、詔勅及び国務に関するその他の行為の全部又は一部は、その効力を有しない」と規定している。このことは、たとえ、国会が制定した法律であっても、国民主権、基本的人権の尊重、 という、憲法の三大基本原理に反するものは認められないことを意味している。

また、日本国憲法は、明治憲法下の「 ノ権利」とは異なり詳細な人権規定を置いている。例えば、思想・良心の自由や<sup>(エ)</sup>信教の自由、表現の自由などからなる「精神の自由」、罪刑法定主義や刑事被告人の権利などの「<sup>(オ)</sup>人身の自由」の保障は、専制的な支配から国民の権利や自由を守るという立憲主義の理念に十分に適うものである。このように、第二次世界大戦後の日本の民主政治にとって、日本国憲法が果たしてきた役割は大きい。

ただし、日本国憲法は制定以来一度も改正されておらず、社会情勢の変化とともにその内容の拡充を求める声もある。例えば、<sup>(カ)</sup>環境権、プライバシーの権利、知る権利、アクセス権などの「新しい人権」についてはその重要性が認識され一部は判例で確立したものもあるが、現行の日本国憲法にはそれらについての直接的な規定はない。また、国際社会において一定の役割を果たしている自衛隊についても、自由民主党を中心にその存在を違憲とする解釈が成り立ちうる規定の変更を求める意見がある。



問1 文中の  ～  に当てはまる最も適当なものを、それぞれの語群①～④の中から1つずつ選びなさい。

- ① 先王            ② 人            ③ 人民            ④ 領主

- ① 最高法規      ② 根本原則      ③ 第一原理      ④ 基本法規

- ① 平和主義      ② 孤立主義      ③ 自由主義      ④ 平等主義

- ① 常民            ② 国民            ③ 市民            ④ 臣民

問2 下線部（ア）に関連して、法の支配や法治主義についての説明として最も適当なものを、次の①～④の中から1つ選びなさい。

- ① 法の支配は、13世紀イギリスの法律家エドワード＝コーク（クック）の「国王といえども神と法の下にある」という言葉に由来する。
- ② イギリスではすでに中世において、為政者は議会が制定した法律であるコモン・ローに従うべきだという考えが定着しており、これが法の支配に発展した。
- ③ ドイツで発達した法治主義は、法によって行政を進めるという点ではイギリスで発達した法の支配と共通する意味をもつ。
- ④ ドイツで発達した法治主義は、法の内容よりも議会で制定されたという形式面を重視するイギリスの法の支配とは異なり、為政者の恣意的な支配を排除する側面が強い。

問3 下線部（イ）に関連して、市民革命や絶対王政、市民革命期の思想家についての説明として最も適当なものを、次の①～④の中から1つ選びなさい。

- ① 17世紀から18世紀にかけて、チャーティスト運動、名誉革命、アメリカ独立革命といった一連の市民革命によって絶対王政が倒された。
- ② 16世紀から18世紀のヨーロッパでは、国王の権力は神から授けられたとする説が唱えられ、絶対王政を支える理論的な根拠とされた。
- ③ フランスのボータンは『国家論』を著し、絶対主義的な君主の国家支配権を批判してフランス革命を擁護した。
- ④ イギリスのホブズは『統治二論』を著し、国家や政府が人々の生まれながらの権利を侵害する場合には、人々は国家権力に抵抗できると説いた。

問4 下線部(ウ)に関連して、日本における違憲審査制度についての説明として最も適切なものを、次の①～④の中から1つ選びなさい。

7

- ① 違憲審査権は「憲法の番人」とされる最高裁判所のみが有し、地方裁判所や家庭裁判所などの下級裁判所に違憲審査権はない。
- ② 具体的な事件が発生していなくても、最高裁判所が、法律の内容が憲法に反していると判断した場合に違憲審査権を行使できる。
- ③ 最高裁判所は、砂川事件において、高度な政治的行為は一見極めて明白に違憲・無効であると認められない限り、司法審査の対象とはならないという判断を示した。
- ④ 法律、命令、詔勅は違憲審査の対象となるが、内閣の制定する政令や衆参各議院が制定する規則は違憲審査の対象とはならない。

問5 下線部(エ)に関する説明として最も適切なものを、次の①～④の中から1つ選びなさい。

8

- ① 日本国憲法は、個人だけでなく法人にも信教の自由を認めており、憲法上、国も特定の宗教活動を行うことができる。
- ② 明治憲法には信教の自由に関わる規定が全く存在せず、そのことが天皇制と結びついた国家神道を国民に強制する一因となった。
- ③ 日本国憲法が保障する表現の自由は、民主政治を実現する上で欠くことのできない権利なので、いかなる制約も許されない。
- ④ 教科書検定制度の合憲性が争われた訴訟で、最高裁判所は、それを日本国憲法が禁じる検閲には当たらないとする判断を示したことがある。

問6 下線部(オ)に関連して、日本国憲法が保障する人身の自由についての説明として最も適切なものを、次の①～④の中から1つ選びなさい。

9

- ① 自白のみを証拠として刑罰を科すことはできない。
- ② 逮捕・捜索・押収については、検察官による令状の発行を要する。
- ③ 重大な刑事事件については、裁判の公正を図るため、裁判官のみの裁判が保障されている。
- ④ 残虐な刑罰を禁止する憲法の規定にもとづいて、最高裁判所は死刑制度を違憲とする判断を示したことがある。



問7 下線部(カ)に関する説明として最も適切なものを、次の①～④の中から1つ選びなさい。

10

- ① 最高裁判所は大阪空港騒音公害訴訟で、環境権に基づいて住民による夜間飛行の差し止め請求を認めた。
- ② 東京地方裁判所は『宴のあと』事件で、私生活をみだりに公開されない権利として初めてプライバシーの権利を認めた。
- ③ 国民の知る権利に基づいて情報公開法が制定されたことに伴い、批判が強かった特定秘密保護法は廃止された。
- ④ サンケイ新聞意見広告事件で、最高裁判所は新聞への反論記事の無料掲載を求めるアクセス権を初めて認めた。

## II 次の文章を読み、問いに答えなさい。

民選の二つの議院からなる国会は、国民の代表機関であり、日本国憲法上「国権の [11] 」と規定されている。また、国会は、「唯一の立法機関」とも位置づけられている。

「立法機関」としての国会の主要な役割は、いうまでもなく法律を制定することにある。議院に提出された<sup>(ア)</sup>法律案は、[a] での実質的な審議を経た後採決されて [b] に上程され、[b] で可決されると他の議院に送付される。他の議院でも同様の手続きを経て可決されると法律は成立する。このように、法律の制定には原則として、両議院における一致した議決が必要となる。この他にも、国会には、予算の議決、[12] の承認、<sup>(イ)</sup>内閣総理大臣の指名、憲法改正の [13]、行政府や<sup>(ウ)</sup>司法府に対する監督などの権限がある。しかし、政権交代が起こらなかった55年体制の下で、政官財の癒着が進み、国会の行政府に対するチェック機能が必ずしも適切に機能しない状況が生まれた。

一方、行政権を担う内閣は、憲法上、「国会に対し [14] を負ふ」（憲法第66条3項）ものとされ、国会の信任の下に存続が認められる。衆議院が内閣不信任決議案を可決した場合、内閣は総辞職をするか、10日以内に衆議院を解散するか、いずれかの選択をしなければならない。また、衆議院が解散された場合でも、内閣は特別国会召集の際には総辞職しなければならない。

ただし、行政が複雑化した現代においては、法律では細部を定めず、具体的な事柄を内閣が定める政令などに任せる委任立法が増加する傾向にある。また、専門的な知識をもった行政官僚の力が増して、官僚制の弊害も目立つようになった。そこで、1990年代以降、行政改革や<sup>(エ)</sup>国会改革が進行した。それらの例として、行政運営の公正性や透明性を確保することを目指して1993年に制定された [15] 法や、政治の主導権を官僚から国会に回復させることを目的として1999年に制定された国会審議活性化法をあげることができる。

問1 文中の [11] ~ [15] に当てはまる最も適当なものを、それぞれの語群①~④の中から1つつ選びなさい。

[11]

- ① 最高機関      ② 主要機関      ③ 第一機関      ④ 基本機関

[12]

- ① 省令      ② 条約      ③ 規則      ④ 政令

[13]

- ① 発議      ② 裁可      ③ 投票      ④ 発布

[14]

- ① 共同責任      ② 輔弼責任      ③ 単独で責任      ④ 連帯して責任

[15]

- ① 行政指導      ② 行政監察官      ③ 行政手続      ④ 行政改革



問2 下線部(ア)に関連して、日本における法律案の提出や審議過程についての説明として最も適切なものを、次の①～④の中から1つ選びなさい。

16

- ① 憲法上、必ず衆議院から先に審議が開始される。
- ② 国会議員だけでなく、内閣も法律案を提出する権限をもつ。
- ③ 憲法上、参議院が衆議院と異なる議決をした場合には、両院協議会を開かなければならない。
- ④ 法律の制定に関して、有権者の3分の2以上の署名により総務大臣に直接請求が行われた場合、内閣はその法律案を国会に提出する義務がある。

問3 下線部(イ)に関連して、日本国憲法が定める内閣総理大臣の指名や任命についての説明として最も適切なものを、次の①～④の中から1つ選びなさい。

17

- ① 内閣総理大臣は衆議院議員の中から選出される。
- ② 内閣総理大臣は、衆議院で多数を占めた政党の党首が天皇により任命される。
- ③ 参議院が衆議院と異なる指名をした場合には、両院協議会の開催を経ることなく、衆議院の議決が国会の議決となる。
- ④ 衆議院が指名した後、10日が経過しても参議院が指名しない場合には、衆議院の議決が国会の議決となる。

問4 下線部(ウ)に関連して、日本国憲法が定める国会による司法府の監督権限についての説明として最も適切なものを、次の①～④の中から1つ選びなさい。

18

- ① 最高裁判所長官を指名し、その他の裁判官を任命する。
- ② 国政調査権に基づいて、裁判の判決内容の当否について調査を行う。
- ③ 裁判により、心身の故障のため職務を執ることができないと判断された裁判官を罷免する。
- ④ 裁判官訴追委員会から罷免の訴追を受けた裁判官を裁判するため弾劾裁判所を設置する。

問5 下線部(エ)に関連して、1990年代以降の国会改革についての説明として最も適切なものを、次の①～④の中から1つ選びなさい。

19

- ① 自由な討論を促進するため、国会議員に不逮捕特権が認められるようになった。
- ② 重要法案について、国民各層の意見を聴くため公聴会の制度が導入された。
- ③ 首相と各党党首が国の基本政策について討論する党首討論が導入された。
- ④ 専門的知識をもつ官僚を国会の答弁に活かすため政府委員制度が導入された。

問6 文中の  ・  に当てはまる言葉の組合せとして最も適切なものを、次の①～⑥の中から1つ選びなさい。

- |   |   |     |   |     |
|---|---|-----|---|-----|
| ① | a | 委員会 | b | 本会議 |
| ② | a | 委員会 | b | 審議会 |
| ③ | a | 本会議 | b | 委員会 |
| ④ | a | 本会議 | b | 審議会 |
| ⑤ | a | 審議会 | b | 委員会 |
| ⑥ | a | 審議会 | b | 本会議 |



### Ⅲ 次の文章を読み、問いに答えなさい。

1980年代後半、日本経済は「バブル経済」と言われる好況であった。バブル経済は、土地や株式の投機的な取引により利益を得る者とそうでない者との間に、深刻な資産格差を生み出した。そこで、日本銀行は市中銀行に資金を貸し出す際の金利である  を引き上げた。また、政府も投機的な不動産取引に対処するため、不動産融資の  を実施した。こうして、1990年代初めにバブル経済は崩壊した。

バブル経済の崩壊は、土地を担保に積極的な<sup>(ア)</sup>融資を行っていた銀行などの金融機関に、巨額の不良債権をもたらした。ところが1990年代後半、政府は<sup>(イ)</sup>日本版金融ビッグバンを推進し、1980年代頃より始まる金融自由化の徹底を図る政策を押し進めた。その結果、1997～98年には国内の大手金融機関の破たんが相次ぎ、金融システムへの信頼が揺らいだ。これに対して、日本銀行は、1999年以降、<sup>(ウ)</sup>従来の金融政策とは異なる政策を採用するようになった。

一方、バブル経済の崩壊は、国内の企業にも大きな影響を及ぼした。設備・負債・人員の三つの過剰に苦しむ企業は、不況が長期化する中で  (事業の再構築)に取り組みざるを得なかった。とりわけ、その中心となったのが人員削減であった。これを機に、従来日本の経済成長を支えてきた<sup>(エ)</sup>日本的雇用慣行は大きな変化を遂げることとなった。

その後2002年から2008年まで、日本経済は、それまで景気拡大期間が戦後最長であった「」を抜く長期にわたる景気拡大を実現した。この景気拡大は「」とも呼ばれた。ただし、の<sup>(オ)</sup>経済成長率は、に比べて低水準にとどまった。またこの間、<sup>(カ)</sup>好景気を実感できる層とそうでない層との差が拡大する傾向がみられた。さらに、2011年の東日本大震災と福島第一原子力発電所の事故は、日本経済に甚大な被害をもたらした。

問1 文中の  ～  に当てはまる最も適当なものを、それぞれの語群①～④の中から1つずつ選びなさい。

- ① 預金準備率      ② 公定歩合      ③ コールレート      ④ 預金金利

- ① 総量規制      ② トレードオフ      ③ ゼロエミッション      ④ 債務不履行

- ① リコール      ② リスケジューリング  
③ リユース      ④ リストラクチャリング

問2 下線部(ア)に関連して、企業が銀行からの融資により資金を調達する方法と、融資された資金についての説明として最も適当なものを、次の①～④の中から1つ選びなさい。

- ① 直接金融といわれ、融資された資金は自己資本に分類される。  
② 直接金融といわれ、融資された資金は他人資本に分類される。  
③ 間接金融といわれ、融資された資金は自己資本に分類される。  
④ 間接金融といわれ、融資された資金は他人資本に分類される。

問3 下線部(イ)に関する説明として最も適当なものを、次の①～④の中から1つ選びなさい。

25

- ① 小泉内閣が進める「構造改革」の一つとして実施された。
- ② フリー(自由)・フェア(公正)・グローバル(国際)の三原則を掲げた。
- ③ アメリカのレーガン政権が提唱し実施した「金融ビッグバン」をモデルとした。
- ④ 金融機関相互の競争を促進する護送船団方式の導入が決定された。

問4 下線部(ウ)に関連して、1999年以降に日本銀行が採用した政策のうち、それを最初に導入した年を早い順に並べた順番として最も適当なものを、次の①～⑥の中から1つ選びなさい。

26

- ① ゼロ金利政策 → マイナス金利政策 → 量的緩和政策
- ② ゼロ金利政策 → 量的緩和政策 → マイナス金利政策
- ③ 量的緩和政策 → ゼロ金利政策 → マイナス金利政策
- ④ 量的緩和政策 → マイナス金利政策 → ゼロ金利政策
- ⑤ マイナス金利政策 → ゼロ金利政策 → 量的緩和政策
- ⑥ マイナス金利政策 → 量的緩和政策 → ゼロ金利政策

問5 下線部(エ)に関する説明として最も適当なものを、次の①～④の中から1つ選びなさい。

27

- ① 労働組合への不加入を条件として労働者を雇い入れる労働契約
- ② 非正規雇用者を中心とする終身雇用制度
- ③ 企業単位で組織される企業別組合
- ④ 職務遂行能力に基づいて賃金が決定される年功序列型賃金制度

問6 下線部(オ)に関連して、昨年の名目GDPを500兆円、今年の名目GDPを400兆円であると仮定する。また、昨年のGDPデフレーターが100、今年の名目GDPデフレーターが80だとすると、今年の実質経済成長率は何%となるか。最も適当なものを、次の①～④の中から1つ選びなさい。

28

- ① -80%
- ② 0%
- ③ +20%
- ④ +25%



問7 下線部(カ)に関連して、貧富の格差についての説明として最も適切なものを、次の①～④の中から1つ選びなさい。

29

- ① 貧富の格差は、ジニ係数ではその値が1に近づくほど大きくなる。
- ② 貧富の格差を縮小するために、日本では、全国一律の最低賃金が法律により保障されている。
- ③ 日本の相対的貧困率は、2000年代半ば以降、OECD加盟国の中では最も低い値となっている。
- ④ 貧富の格差は、ビルト・イン・スタビライザーの導入により拡大する傾向がある。

問8 文中の  ・  に当てはまる言葉の組合せとして最も適切なものを、次の①～⑥の中から1つ選びなさい。

30

- ① a いざなぎ景気      b 神武景気
- ② a いざなぎ景気      b いざなみ景気
- ③ a 神武景気            b いざなぎ景気
- ④ a 神武景気            b いざなみ景気
- ⑤ a いざなみ景気      b いざなぎ景気
- ⑥ a いざなみ景気      b 神武景気

## IV 次の文章を読み、問いに答えなさい。

第二次世界大戦後の国際社会では、戦前の反省を踏まえて、外国為替相場の安定と<sup>(ア)</sup>自由貿易の推進が図られた。前者はIMF（国際通貨基金）、後者はGATT（関税と貿易に関する一般協定）が中心となって、世界経済のリード役を果たしてきた。

ところが、1960年代に入ると、<sup>(イ)</sup>アメリカの経済力が相対的に低下するとともに、ドルを基軸通貨とする<sup>(ウ)</sup>固定相場制の維持に問題が生じるようになった。元来、ドルはアメリカの国内通貨であり、国際的な取引決済に大量に使われることを想定していなかった。そのドルが世界貿易の拡大に伴い大量に発行されて広く流通するようになったことで、かえってドルに対する信用が低下したのである。各国は、ドルと金との交換をアメリカに要求し、アメリカの金保有量は急激に低下した。

1971年、アメリカの<sup>[36]</sup>大統領は、ついに金とドルとの交換停止を発表した。このことは、固定相場制の基礎となる金ドル本位制の崩壊を意味したが、このときはドルの切り下げを旨とする<sup>[37]</sup>協定の締結により固定相場制の維持が図られた。しかしそれも長くは続かず、1973年、主要国は変動相場制へと完全に移行した。さらに、この年、<sup>[a]</sup>を契機として第一次石油危機が、1979年には<sup>[b]</sup>を契機として第二次石油危機が起こり、世界経済は混とんとした状態に陥った。

一方、GATTは、1960年代の<sup>[c]</sup>、1970年代の<sup>[d]</sup>などいくつかの多角的貿易交渉を経て順調に推移してきたが、サービス貿易や知的財産権、<sup>(エ)</sup>農産物問題が話し合われた1980年代～90年代の<sup>[e]</sup>を最後に、1995年からは<sup>[38]</sup>へと発展的に改組された。<sup>[38]</sup>はサービス貿易の自由化などの新分野を含めた討議の場として期待され、その後も、ドーハ・ラウンド開催の宣言が行われたり、加盟国が増加したりするなど順調に推移しているかに見えた。しかし、ドーハ・ラウンドでは、農産物や鉱工業製品の貿易自由化をめぐり、先進国と、<sup>(オ)</sup>中国・インドなどの新興国との間の対立が激化し、2011年には、包括合意が断念された。



問1 下線部(ア)に関連して、A国で、X商品を1単位生産するのに必要な労働者数は60人、Y商品を1単位生産するのに必要な労働者数は120人だとする。B国では、X商品を1単位生産するのに必要な労働者数は30人、Y商品を1単位生産するのに必要な労働者数は20人だとする。今、それぞれの国がX商品、Y商品を1単位ずつ生産していたとする。このとき、A・B両国が比較生産費説に基づいてそれぞれ比較優位にある生産に特化すると、X商品・Y商品の生産量は両国全体で何単位になるか。正しい組合せを、次の①～⑥の中から1つ選びなさい。なお、A国の総労働者は180人、B国の総労働者数は50人で、すべての労働者が国内のいずれかの産業で雇用されるとする。

31

- ① X商品：1.5単位 Y商品：2.5単位
- ② X商品：1.5単位 Y商品：7単位
- ③ X商品：3単位 Y商品：2.5単位
- ④ X商品：3単位 Y商品：7単位
- ⑤ X商品：5単位 Y商品：2.5単位
- ⑥ X商品：5単位 Y商品：7単位

問2 下線部(イ)に関連して、1960年代のアメリカの経済力の相対的低下の要因についての説明として最も適当なものを、次の①～④の中から1つ選びなさい。

32

- ① 朝鮮戦争により巨額の軍事支出を強いられた。
- ② 日本や西欧からの輸入が増大し、貿易収支が悪化した。
- ③ NAFTAが発効し、企業による国外への直接投資が活発化した。
- ④ 日本に対する経済援助が増大し、国際収支が悪化した。

問3 下線部(ウ)に関連して、IMFやIMFが設立当初採用していた固定相場制についての説明として最も適当なものを、次の①～④の中から1つ選びなさい。

33

- ① 円とドルとは、1ドル=360円の水準で固定されていた。
- ② 金ドル本位制が採用され、アメリカは金1オンス=38ドルでの交換を保証していた。
- ③ IMFは、国際収支が悪化した国に対する長期資金の融資を約束していた。
- ④ IMFは、国際収支が悪化した国に対してSDR(特別引き出し権)を認めていた。

問4 下線部(工)に関連して、日本の農業や農産物に関する法律についての説明として最も適切なものを、次の①～④の中から1つ選びなさい。

34

- ① 日本の農業は、一般に、狭い農地に多くの労働力や肥料を投下しているため、労働生産性は高いが土地生産性は低い。
- ② 高度経済成長期に制定された農業基本法は、農・工業間の格差を是正するため、兼業化の推進を目的の一つに掲げていた。
- ③ 戦時中に制定された食糧管理法が1990年代半ばまで施行され、いわゆる逆ざやにより食糧管理特別会計は慢性的な黒字を記録した。
- ④ 現在では、農産物生産だけでなく、生産された農産物の加工や販売の一体化を目指す六次産業化法が施行されている。

問5 下線部(オ)に関連して、BRICS 諸国についての説明として最も適切なものを、次の①～⑤の中から1つ選びなさい。

35

- ① ブラジルは、MERCOSUR 加盟国で天然資源や工業製品を輸出しているが、一方で貧困問題やアマゾン開発にともなう環境問題を抱えている。
- ② ロシアは、エネルギー資源の輸出を基本戦略としているが、シリアやウクライナを自国に併合したことで欧米諸国から非難を受けている。
- ③ インドは、近年、外国企業のコールセンター業務などを受託するヘッジ・ファンドを実施しているが、貧困問題や環境問題が経済発展の足かせとなっている。
- ④ 中国は、習近平国家主席の提唱でアジア開発銀行を設立して一帯一路構想を推進しているが、一方で巨額の対米貿易黒字や南沙諸島の領有権などの問題を抱えている。
- ⑤ 南アフリカは、金やプラチナなどの資源輸出により経済成長を遂げているが、今でもアパルトヘイト政策を放棄しておらず、国際社会からの批判を受けている。

問6 文中の 36 ～ 38 に当てはまる最も適切なものを、それぞれの語群①～④の中から1つずつ選びなさい。

36

- ① オバマ                      ② トルーマン                      ③ クリントン                      ④ ニクソン

37

- ① スミソニアン                      ② キングストン                      ③ プラザ                      ④ ルーブル

38

- ① WTO                      ② WHO                      ③ UNESCO                      ④ UNICEF



問7 文中の **a** ・ **b** に当てはまる言葉の組合せとして最も適切なものを、次の①～⑥の中から1つ選びなさい。

39

- |   |   |         |   |         |
|---|---|---------|---|---------|
| ① | a | エネルギー革命 | b | 第4次中東戦争 |
| ② | a | エネルギー革命 | b | イラン革命   |
| ③ | a | 第4次中東戦争 | b | イラン革命   |
| ④ | a | 第4次中東戦争 | b | エネルギー革命 |
| ⑤ | a | イラン革命   | b | 第4次中東戦争 |
| ⑥ | a | イラン革命   | b | エネルギー革命 |

問8 文中の **c** ～ **e** に当てはまる言葉の組合せとして最も適切なものを、次の①～⑥の中から1つ選びなさい。

40

- |   |   |            |   |            |   |            |
|---|---|------------|---|------------|---|------------|
| ① | c | ケネディ・ラウンド  | d | 東京ラウンド     | e | ウルグアイ・ラウンド |
| ② | c | ケネディ・ラウンド  | d | ウルグアイ・ラウンド | e | 東京ラウンド     |
| ③ | c | ウルグアイ・ラウンド | d | 東京ラウンド     | e | ケネディ・ラウンド  |
| ④ | c | ウルグアイ・ラウンド | d | ケネディ・ラウンド  | e | 東京ラウンド     |
| ⑤ | c | 東京ラウンド     | d | ケネディ・ラウンド  | e | ウルグアイ・ラウンド |
| ⑥ | c | 東京ラウンド     | d | ウルグアイ・ラウンド | e | ケネディ・ラウンド  |

政治・経済の問題はここまでです

# 日 本 史

この問題はⅠからⅣまであります。解答用紙には問題番号が  から  までありますが、解答に使用する問題番号は  から  までです。

Ⅰ 次の〔文章A〕・〔年表B〕・〔史料C〕を読み、 ～  の問いに答えなさい（史料は一部省略したり、書き改めたところもある）。

## 〔文章A〕

水稻耕作が各地で定着した  には、貧富・階級差が明確になったとされている。そのことは、「下戸、 と道路に相逢へば、逡巡して草に入り、辞を伝へ事を説くには、或は蹠り或は跪き、両手は地に扱ひ、之が恭敬を為す」といった、「魏志」倭人伝の記述などから知ることができる。

(3) 古墳時代には、支配者である豪族と被支配者である民衆の生活が、明確に分離されたと考えられている。

(4) 律令制下の身分制度は、(5) 良民と賤民に大きく分けられ、官人は調・庸などの税を免除されたが、多くの民衆は重い税と兵役を負担しなければならなかった。

空欄  ・  にあてはまる語句の組み合わせとして最も適切なものを、次の①～

④から1つ選びなさい。

- |   |          |        |
|---|----------|--------|
| ① | (1) 縄文時代 | (2) 生口 |
| ② | (1) 縄文時代 | (2) 大人 |
| ③ | (1) 弥生時代 | (2) 生口 |
| ④ | (1) 弥生時代 | (2) 大人 |

下線部 (3) に関連して、古墳時代の豪族と民衆の支配について述べた文として最も適切なものを、次の①～④から1つ選びなさい。

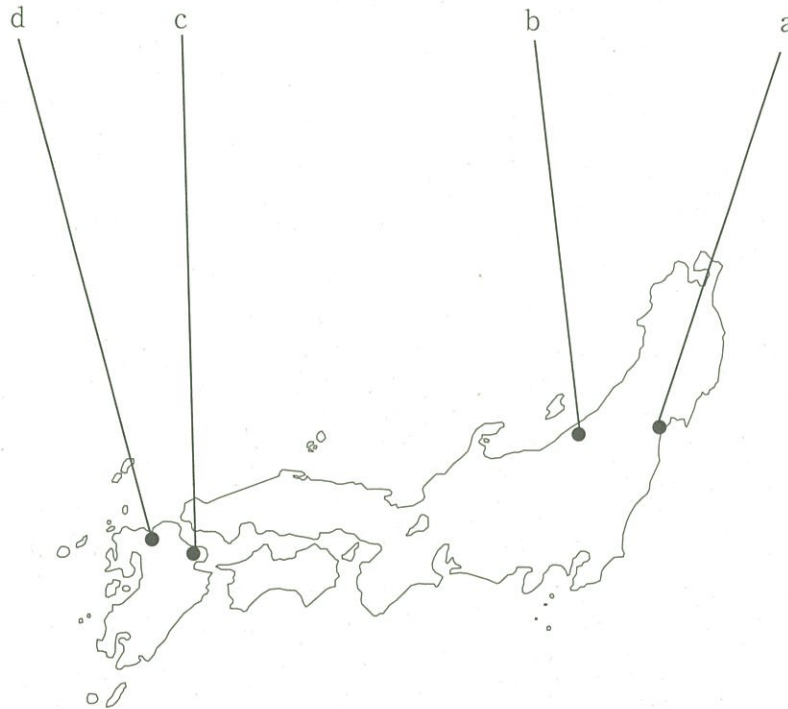
- ① ヤマト政権に服属した地方豪族は、国司に任じられた。
- ② ヤマト政権に服属した豪族は、徳や仁などの姓を与えられた。
- ③ ヤマト政権のもとで、豪族は私有地である屯倉を領有した。
- ④ ヤマト政権のもとで、豪族は私有民である部曲を領有した。



3 下線部(4)に関連して、律令制下における地方の拠点に関して述べた文X・Yと、地図中に示した場所a～dの組み合わせとして正しいものを、下の①～④から1つ選びなさい。

X 8世紀前半に、東北支配の拠点とされたこの地におかれた鎮守府は、9世紀初頭にさらに北方へと移された。

Y 外交や軍事上の要地で、「遠の朝廷」とよばれた機関がおかれたこの地では、8世紀前半に藤原広嗣が挙兵した。



- |               |               |
|---------------|---------------|
| ① X - a Y - c | ② X - a Y - d |
| ③ X - b Y - c | ④ X - b Y - d |

4 下線部(5)に関して述べた文として最も適切なものを、次の①～④から1つ選びなさい。

- ① 官戸・陵戸・公奴婢・下人・所従は、五色の賤と総称された。
- ② 官人の官職は位階ではなく、能力に応じて与えられた。
- ③ 兵士は正丁3～4人に1人の割で徴発され、軍団で訓練を受けた。
- ④ 男女を問わずに課された調や庸は、中央政府の財源とされた。

〔年表B〕

次の年表は、よく知られている遣唐使と、随同行した留学生・学問僧をまとめたものである。

630年	犬上御田鍬 (6)
702年	粟田真人, <sup>(7)</sup> 山上憶良
717年	玄昉 (学問僧), 吉備真備・阿倍仲麻呂 (留学生)
804年	最澄・空海 (学問僧), <sup>(8)</sup> 橘逸勢 (留学生)
894年	菅原道真 (派遣中止)

5 (6) の時期の対外関係について述べた文として最も適切なものを、次の①～④から1つ選びなさい。

- ① 朝鮮半島に出兵した倭の軍が、高句麗の好太王の軍と戦った。
- ② 朝鮮半島に出兵した倭の軍が、白村江で唐・新羅の軍に敗れた。
- ③ 百済の観勒によって暦法が、高句麗の曇徴によって彩色などが伝えられた。
- ④ 唐から渡来した鑑真によって戒律が伝えられ、東大寺などに戒壇が設けられた。

6 下線部 (7) に関連して、山上憶良による「貧窮問答歌」を取めた歌集として最も適切なものを、次の①～④から1つ選びなさい。

- ① 『古今和歌集』      ② 『懷風藻』      ③ 『万葉集』      ④ 『凌雲集』

7 下線部 (8) の橘逸勢について述べた文として最も適切なものを、次の①～④から1つ選びなさい。

- ① 応天門の変で、伴健岑らとともに失脚した。
- ② 源満仲の密告により、安和の変で失脚した。
- ③ 嵯峨天皇らとともに、三筆に数えられる能筆家として知られる。
- ④ 小野道風らとともに、三跡 (蹟) に数えられる能筆家として知られる。





II 次の〔史料A〕～〔史料D〕を読み、〔11〕～〔20〕の問いに答えなさい（史料は一部省略したり、書き改めたところもある）。

〔史料A〕

第七十二代、第三十九世、<sup>しらかわ</sup>白河院。……<sup>じんし</sup>壬子年即位、<sup>こういん</sup>甲寅ニ改元。<sup>いにしえ</sup>古ノアトヲオコサレテ野ノ行幸ナンドモアリ。又白河ニ〔1〕ヲ立、<sup>たて</sup>九重ノ<sup>くじゅう</sup>塔婆<sup>とうば</sup>ナドモ昔ノ<sup>ごがん</sup>御願ノ寺々ニモコエ、タメシナキホドゾツクリト、ノヘサセ給ケル……。

天下ヲ治<sup>おさめたまう</sup>給コト十四年。<sup>せんごう</sup>太子ニユヅリテ尊号アリ。<sup>まつりごと</sup>世ノ政ヲハジメテ院中ニテシラセ給。後ニ出家セサセ給テモ猶<sup>なほ</sup>ソノマ、ニテ御一期<sup>おんいちご</sup>ハスゴサセマシマシキ。

オリキニテ世ヲシラセ給コト昔ハナカリシナリ。……<sup>しゅじょう</sup>主上ヲサナクオハシマス時ハヒトヘニ執柄<sup>しつぺい</sup>ノ政ナリキ。〔4〕ノ大臣ノ世トナリテ……<sup>ほう おんとき</sup>後三条院、坊ノ御時ヨリアシザマニオボシメスヨシキコエテ、……<sup>せんそ すなわちかんばく</sup>践祚ノ時即<sup>ほか そのけん</sup>関白ヲヤメテ〔4〕ニコモラレヌ。弟ノ二条ノ<sup>のりみち</sup>教通ノ大臣、関白セラレシハコトノ外ニ其権モナクオハシキ。

出典：山川出版社『詳説日本史史料集』

- 〔11〕 空欄〔1〕・〔4〕にあてはまる語句の組み合わせとして最も適切なものを、次の①～④から1つ選びなさい。
- ① (1) 法勝寺           (4) 平泉
  - ② (1) 法勝寺           (4) 宇治
  - ③ (1) 法成寺           (4) 平泉
  - ④ (1) 法成寺           (4) 宇治

- 〔12〕 下線部(2)の「太子」にあたる天皇として最も適切なものを、次の①～④から1つ選びなさい。
- ① 一条天皇           ② 安徳天皇           ③ 堀河天皇           ④ 高倉天皇

- 〔13〕 下線部(3)に関連して、院政期の出来事に関して述べた次のa～cを、年代順に並べたものとして最も適切なものを、下の①～⑥から1つ選びなさい。
- a. 平清盛が太政大臣となった。
  - b. 崇徳上皇が讃岐に流された。
  - c. 後三年合戦を源義家が制圧した。
- ① a→b→c                           ② a→c→b                           ③ b→a→c
  - ④ b→c→a                           ⑤ c→a→b                           ⑥ c→b→a



14 下線部(5)に関連して、後三条天皇の時代の出来事について述べた文として最も適切なものを、次の①～④から1つ選びなさい。

- ① 延久の荘園整理令が出され、記録荘園券契所が設けられた。
- ② 宮中警備のための武力として、西面の武士が設けられた。
- ③ 平将門が反乱をおこしたが、平貞盛らによって鎮圧された。
- ④ 上総で平忠常の乱がおこったが、源頼信によって鎮圧された。

〔史料B〕

もし先づ国土を安んじて、<sup>げんとう</sup>現当を祈らんと欲せば、<sup>すみや</sup>速かに<sup>じょうりょ</sup>情慮を廻らし、<sup>めぐ</sup>愆いで<sup>たいじ</sup>対治を加へよ。所以は何ん。薬師<sup>やくしきょう</sup>経の七難の内、<sup>しちなん</sup>五難<sup>たちま</sup>忽ちに<sup>なほ</sup>起り<sup>いわゆる</sup>二難猶残せり。所以「<sup>(6)</sup>他国<sup>しんびつ</sup>侵逼の難、<sup>じかいほんぎやく</sup>自界叛逆の難」なり。大集<sup>おほいづみ</sup>経の三災の内、<sup>あら</sup>二災早く<sup>あら</sup>顕はれ一災未だ起らず。

出典：山川出版社『詳説日本史史料集』

15 この史料を含む著書は1260年に北条時頼に提出され、著者の僧は伊豆に流罪となった。この史料の出典名として最も適切なものを、次の①～④から1つ選びなさい。

- ① 『正法眼蔵』
- ② 『興禅護国論』
- ③ 『立正安国論』
- ④ 『選択本願念仏集』

16 下線部(6)に関連して、13世紀後半の蒙古襲来に関して述べた文として最も適切なものを、次の①～④から1つ選びなさい。

- ① 元は朝鮮半島の新羅を全面的に服属させたのち、日本に朝貢を要求した。
- ② 文永の役において元軍は、幕府が築造した山城や水城に防がれて上陸できなかった。
- ③ 2度の蒙古襲来に際して、幕府の中心になったのは執権の北条高時であった。
- ④ 2度の蒙古襲来に際して、幕府は異国警固番役を九州の御家人らに課した。

〔史料C〕

日本<sup>じゆさんごう</sup>准三后某、書<sup>たてまつ</sup>を大明皇帝陛下に上る。日本国<sup>かいびやく</sup>開闢以来、<sup>へいもん</sup>聘問を上<sup>じょうほう</sup>邦に通ぜざること無し。某、幸にも<sup>こっきん</sup>国鈞を<sup>と</sup>乗り、<sup>かいだい</sup>海内に<sup>おそ</sup>虞れ無し。特に<sup>したが</sup>往古の<sup>こいつみ</sup>規法に<sup>そあ</sup>遵ひて、<sup>あい</sup>肥富をして<sup>そ</sup>祖阿に<sup>あ</sup>相副へしめ、<sup>よしみ</sup>好を通じて<sup>ほうぶつ</sup>方物を<sup>そ</sup>献ず。

出典：山川出版社『詳説日本史史料集』

17 この史料の出典である『善隣国宝記』を編纂した臨済僧として最も適切なものを、次の①～④から1つ選びなさい。

- ① 無学祖元
- ② 蘭溪道隆
- ③ 瑞溪周鳳
- ④ 夢窓疎石

18 この史料について述べた文として最も適切なものを、次の①～④から1つ選びなさい。

- ① 「日本准三后某」とは、足利義政のことである。
- ② 「大明皇帝陛下」とは、洪武帝のことである。
- ③ 博多商人として知られる「肥富」は、副使だったことがわかる。
- ④ 「好を通じて方物」を献じたのは、16世紀初頭である。

【史料D】

九月 日、<sup>いってんか</sup>一天下の<sup>どみんほうき</sup>土民蜂起す。徳政と号し、酒屋・(7)・寺院等を破却せしめ、<sup>はきやく</sup>雑物<sup>ぞうもつ</sup>等恣<sup>ほしいまま</sup>にこれを取り、<sup>ことごとく</sup>借錢等悉これを破る。(8)これを<sup>せいばい</sup>成敗す。凡そ亡国の<sup>およ</sup>基<sup>もと</sup>、これに過ぐべからず。日本開白<sup>かいびやく</sup>以来、土民蜂起是れ初めなり。

出典：山川出版社『詳説日本史史料集』

19 空欄(7)・(8)にあてはまる語句の組み合わせとして最も適切なものを、次の①～

- ④から1つ選びなさい。
- ① (7) 借上 (8) 管領
- ② (7) 借上 (8) 執権
- ③ (7) 土倉 (8) 管領
- ④ (7) 土倉 (8) 執権

20 この史料で扱われている「土民蜂起」が発生した年の出来事に関して述べた文として最も適切なものを、次の①～④から1つ選びなさい。

- ① 足利義持が死去し、足利義教が将軍に決定した。
- ② 観応の擾乱とよばれる抗争によって、足利直義が敗死した。
- ③ 南朝の後龜山天皇が入京し、南北朝の合体が実現した。
- ④ 加賀の一向一揆によって、守護の富樫政親が倒された。



Ⅲ 次の〔文章A〕・〔文章B〕を読み、 ～  の問いに答えなさい。

〔文章A〕

織田信長・<sup>(1)</sup>豊臣（羽柴）秀吉によって全国統一が進められた16世紀後半を中心とする文化は、桃山文化とよばれる。桃山文化を象徴する建築物が城郭であり、城郭の内部には、の豪華な障壁画が描かれた。江戸幕府の3代将軍徳川家光の時代を中心とする<sup>(3)</sup>寛永文化のころには、が幕府の御用絵師となるなど、狩野派が活躍した。一方で、寛永文化期から5代将軍<sup>(5)</sup>徳川綱吉の時代を中心とする元禄文化期にかけて、俵屋宗達や尾形光琳が装飾性の高い絵画を描いた。

江戸時代において、文化の大衆化に貢献したのは、浮世絵版画であった。<sup>(6)</sup>菱川師宣が創始した浮世絵は、やがて多色刷の版画である錦絵へと発展し、庶民のあいだで人気を博した。

下線部（1）に関連して、豊臣（羽柴）秀吉に関して述べた次のa～cを、年代順に並べたものとして最も適切なものを、下の①～⑥から1つ選びなさい。

- a. 山城の山崎の合戦で、明智光秀を討った。  
 b. 肥前の名護屋に本陣を築き、大軍を朝鮮に派兵した。  
 c. 京都の聚楽第に、後陽成天皇を迎えて歓待した。

- ① a→b→c                      ② a→c→b                      ③ b→a→c  
 ④ b→c→a                      ⑤ c→a→b                      ⑥ c→b→a

空欄  ・  にあてはまる語句の組み合わせとして最も適切なものを、次の①～④から1つ選びなさい。

- ① (2) 濃絵                      (4) 狩野正信  
 ② (2) 濃絵                      (4) 狩野探幽  
 ③ (2) 似絵                      (4) 狩野正信  
 ④ (2) 似絵                      (4) 狩野探幽

下線部（3）の寛永文化について述べた文として最も適切なものを、次の①～④から1つ選びなさい。

- ① 蘭学が隆盛するなかで、大槻玄沢が芝蘭堂を開いて門弟を育てた。  
 ② 平田篤胤による復古神道がさかんになり、豪農・神職に広く浸透した。  
 ③ 東洲斎写楽らが、大首絵の手法を駆使してすぐれた作品を生み出した。  
 ④ 日光東照宮をはじめ霊廟建築が流行し、神社建築に権現造が広く用いられた。

24 下線部(5)に関連して、徳川綱吉の時代の社会のようすに関して述べた文として最も適切なものを、次の①～④から1つ選びなさい。

- ① 東海・畿内一帯で、熱狂的な「ええじゃないか」の集団乱舞が発生した。
- ② 野犬が横行するといった状態が減少し、死や血を忌みきらう風潮が強まった。
- ③ 浅間山の大噴火を経て大飢饉が発生し、打ちこわしが各地でおこった。
- ④ 大蔵永常が著した農書が各地に普及し、農業生産力が上昇した。

25 下線部(6)に関連して、菱川師宣の肉筆画として最も適切なものを、次の①～④から1つ選びなさい。

- ① 「見返り美人図」
- ② 「十便十宜図」
- ③ 「鷹見泉石像」
- ④ 「東海道五十三次」

〔文章B〕

豊臣政権下では身分を明確にする目的などから (7) や人掃令が出され、兵農分離が完成した。こうした政策の一方で、(7) が出された前年に実施された (8) 大茶湯において、秀吉は貧富・身分の別なく民衆を参加させている。

(9)幕藩体制下では、武士は苗字・帯刀のほか、さまざまな特権を与えられた。一方、社会の大半を占める被支配身分は、百姓・職人や、(10)商業や金融、流通・運輸を担う商人を中心とする都市の家持町人などに大別された。このような社会の秩序は「士農工商」とよばれることもあるが、すべての人々がこうした身分秩序に明確に区分されたわけではなく、近世の村や都市社会の周縁部分に、宗教者、(11)儒者・医者ら知識人、(12)人形遣いら芸能者など、小さな身分集団が多様に存在した。

26 空欄(7)・(8)にあてはまる語句の組み合わせとして最も適切なものを、次の①～④から1つ選びなさい。

- ① (7) 楽市令 (8) 北野
- ② (7) 楽市令 (8) 石山
- ③ (7) 刀狩令 (8) 北野
- ④ (7) 刀狩令 (8) 石山

27 下線部(9)に関連して、幕府による諸勢力の統制に関して述べた文として誤っているものを、次の①～④から1つ選びなさい。

- ① 朝廷統制法の禁中並公家諸法度が出され、統制機関として六波羅探題が置かれた。
- ② 寺院や神社を統制するために、諸宗寺院法度や諸社禰宜神主法度が出された。
- ③ 大名の配置では、有力な外様は江戸から遠隔の地に配置された。
- ④ 村民は五人組に編成させられ、年貢納入などに連帯責任を負わされた。



28 下線部 (10) に関して述べた文として最も適切なものを、次の①～④から1つ選びなさい。

- ① 長崎の角倉了以や京都の末吉孫左衛門は海外貿易に従事し、豪商として活躍した。
- ② 米の売却を担っていた札差は、旗本や御家人らを対象に金融活動も行った。
- ③ 流通の活発化を背景に、雑喉場の青物市場などの卸売市場が形成された。
- ④ 西廻り海運を就航した菱垣廻船は、東北地方の物資を大坂などにもたらした。

29 下線部 (11) に関連して、日本における陽明学の祖とされる儒者として最も適切なものを、次の①～④から1つ選びなさい。

- ① 山鹿素行            ② 荻生徂徠            ③ 中江藤樹            ④ 木下順庵

30 下線部 (12) に関連して、大坂に開かれた人形浄瑠璃の座として最も適切なものを、次の①～④から1つ選びなさい。

- ① 竹本座            ② 観世座            ③ 金春座            ④ 宝生座

## IV 次の〔文章A〕・〔文章B〕を読み、□31～□40の問いに答えなさい。

## 〔文章A〕

1859年、前年に締結された<sup>(1)</sup>日米修好通商条約をはじめとする安政の五カ国条約にもとづいて、諸外国との貿易が開始された。このとき、生糸が最大の輸出品となり、幕末期に製糸業は急速に発展した。明治政府も生糸の生産拡大をめざし、<sup>(2)</sup>殖産興業政策の一環として、1872年に□(3)に富岡製糸場を設けた。アメリカなどへの輸出が増大するなかで、<sup>(4)</sup>日清戦争後には、器械製糸の生産量が、在来製糸業による座繰製糸の生産量を上回った。さらに<sup>(5)</sup>日露戦争後の1909年には生糸の輸出量が□(6)を抜いて世界一となった。

□31 下線部(1)に関して述べた文として最も適切なものを、次の①～④から1つ選びなさい。

- ① 日米修好通商条約では、輸入関税は一律で5%に定められた。
- ② 安政の五カ国条約は、老中首座阿部正弘のもとで締結された。
- ③ 貿易が開始されると、輸出超過にともない物価が上昇した。
- ④ 貿易は金貨を用いて行われ、アメリカが最大の貿易相手国となった。

□32 下線部(2)に関連して、明治六年の政変後に大久保利通を長官として新設された、殖産興業政策などを担った官庁として最も適切なものを、次の①～④から1つ選びなさい。

- ① 工部省                      ② 内務省                      ③ 農商務省                      ④ 逓信省

□33 空欄□(3)・□(6)にあてはまる語句の組み合わせとして最も適切なものを、次の①～④から1つ選びなさい。

- ① (3) 福岡県                      (6) イギリス
- ② (3) 福岡県                      (6) 中国(清)
- ③ (3) 群馬県                      (6) イギリス
- ④ (3) 群馬県                      (6) 中国(清)

□34 下線部(4)に関連して、日清戦争後の社会状況について述べた文として最も適切なものを、次の①～④から1つ選びなさい。

- ① 高野房太郎や片山潜らによって、労働組合期成会が結成された。
- ② 賀川豊彦や杉山元治郎らによって、友愛会が結成された。
- ③ 下関条約の内容に不満をもつ民衆らが、日比谷焼打ち事件をおこした。
- ④ 地租増徴案が議会で提出されると、民衆らは第一次護憲運動をおこした。





39 下線部 (10) に関して述べた文として最も適切なものを、次の①～④から1つ選びなさい。

- ① 財閥解体の指令をうけて、重要産業統制法が制定された。
- ② 農地改革の指令をうけて、農業基本法が制定された。
- ③ 金融緊急措置令によって、貨幣流通量を減らす措置がとられた。
- ④ 傾斜生産方式が実行されたが、デフレがさらに深刻化した。

40 下線部 (11) に関連して、高度経済成長期に到来した、1960年代後半を中心とする大型景気として最も適切なものを、次の①～④から1つ選びなさい。

- ① 岩戸景気
- ② 神武景気
- ③ オリンピック景気
- ④ いざなぎ景気

日本史の問題はここまでです



このページは余白です。

# 世界史

この問題はⅠからⅣまであります。解答用紙には問題番号が  から  までありますが、**解答に使用する問題番号は  から  までです。**

Ⅰ 西ヨーロッパ世界の成立について述べた次の文章を読み、また次ページの地図を見て(1)～(10)の問いに答えなさい。

アジアの騎馬遊牧民である<sup>1</sup>フン人が黒海北岸地域に進出し、ゲルマン人の一派である東ゴート人を征服すると、その西隣にいた西ゴート人が375年、大移動を開始した。こうして<sup>2</sup>ゲルマン人は西ローマ帝国領へ次々に侵入して<sup>3</sup>建国し、その混乱の中で西ローマ帝国は滅亡した。ゲルマン人諸国家の中で、フランク王国は大移動ではなく、従来の居住地から徐々に拡大を続け、しかも建国者クロヴィスが<sup>4</sup>キリスト教正統派に改宗したことで、ローマ教会や、ローマ系貴族の支持を得たため、他のゲルマン諸国よりも安定度が高かった。一方、東方のビザンツ帝国では、6世紀に<sup>5</sup>ユスティニアヌス帝がゲルマン諸国家を滅ぼして地中海全域に及ぶ大領土を実現したが、その死後は急速に領土を縮小させた。とくに7世紀前半、<sup>6</sup>イスラーム勢力にエジプト・シリアを奪われたことは大きな打撃であった。

イスラーム教は偶像崇拝を否定する宗教であり、そのことに刺激を受けたビザンツ皇帝レオン3世は、726年に聖像禁止令を発した。このことは、ゲルマン人布教に聖像を必要としたローマ教会の激しい反発を招いた。その直後の732年、フランク王国の宮宰カール＝マルテルが、侵入してきた<sup>7</sup>イスラーム勢力を撃退すると、ローマ教会は自身の保護者としての役割を期待してフランク王国に接近した。カール＝マルテルの子ピピンはメロヴィング朝を倒してカロリング朝を樹立したが、これをローマ教皇が支持して両者の提携はいっそう強固となった。次いで<sup>8</sup>カール大帝は、西ヨーロッパの主要部を統一し、800年、<sup>9</sup>ローマ教皇より帝冠を授けられ、ここに西ローマ帝国が復活した。これは、ビザンツ帝国と同等の権威の出現であり、ゲルマン・ラテン・キリスト教が融合した新しい世界である西ヨーロッパ世界の誕生を意味した。一方のビザンツ帝国は、<sup>10</sup>スラヴ・ギリシア・キリスト教が融合した東ヨーロッパ世界の形成を導いていった。





(5) 下線部 5 の業績として誤っているものを、次の①～④の中から1つ選びなさい。

5

- ① ハギア=ソフィア聖堂の建立                      ② 養蚕業・絹織物業の促進  
③ プロノイア制の創始                                ④ 『ローマ法大全』の編纂

(6) 下線部 6 のとき、キリスト教の五本山のうち、地図上の c, d, e がいずれもイスラーム圏に編入された。この3都市の名の組合せとして最も適切なものを、次の①～④の中から1つ選びなさい。

6

- ① c — イエルサレム                      d — アンティオキア                      e — アレクサンドリア  
② c — アンティオキア                      d — イエルサレム                      e — アレクサンドリア  
③ c — アレクサンドリア                      d — イエルサレム                      e — アンティオキア  
④ c — アンティオキア                      d — アレクサンドリア                      e — イエルサレム

(7) 下線部 7 の戦いの名を、次の①～④の中から1つ選びなさい。

7

- ① ニハーヴァンドの戦い                                ② イッソスの戦い  
③ タラス河畔の戦い                                    ④ トゥール・ポワティエ間の戦い

(8) 下線部 8 について述べた文として最も適切なものを、次の①～④の中から1つ選びなさい。

8

- ① マジャール人の侵入を撃退した。  
② ブリタニア（イングランド）から神学者アルクインを招いた。  
③ イベリア半島全域を征服した。  
④ 地方管区長であるサトラップを任命した。

(9) 下線部 9 の教皇の名を、次の①～④の中から1つ選びなさい。

9

- ① ウルバヌス2世                                        ② グレゴリウス1世  
③ レオ3世    ④ インノケンティウス3世

(10) 下線部10に属するチェク人が建てた国家の名と、その首都であるプラハの地図上の位置の組合せとして最も適切なものを、次の①～④の中から1つ選びなさい。

10

- ① ベーメン王国 — f                                    ② ベーメン王国 — g  
③ キエフ公国 — f                                      ④ キエフ公国 — g



Ⅱ 前近代の中央ユーラシアに関する(1)~(10)の文 a・b の正誤を判断し、下の例にしたがってマークしなさい。

例	aのみが正しい場合	—————	①
	bのみが正しい場合	—————	②
	a・bともに正しい場合	—————	③
	a・bともに誤りの場合	—————	④

(1)

- a 南ロシア草原からモンゴル高原にいたる「草原の道」は、ラクダを用いた隊商交易に適していた。
- b 高温・乾燥地帯では、水の確保のためにカナートとよばれる地下水路が設けられた。

(2)

- a 文献史料で確認できる最初の遊牧国家であるスキタイは、動物文様を特徴とする馬具や装身具を残した。
- b 匈奴は冒頓単于のもとで強力になり、前漢の高祖の軍を破った。

(3)

- a マケドニアのアレクサンドロス大王は、遠征によりガンジス川下流域まで支配下におさめた。
- b セレウコス朝シリアから自立したイラン人は、バクトリアを建国した。

(4)

- a 前漢の武帝は、大月氏に派遣した張騫の報告を受け、タリム盆地へ進出した。
- b 後漢の班超は、敦煌郡を創設するのに貢献した。

(5)

- a エフタルは、グプタ朝へ侵入して、その衰退を促進した。
- b 突厥は、ササン朝のシャープール1世と提携してエフタルを滅ぼした。

(6)

- a トルコ系のウイグルの一派は、モンゴル高原から中央アジアへ移住した。
- b トルコ系民族が多数となった中央アジア一帯は、トルキスタンとよばれるようになった。

(7)

- a 中央アジアで最初のイラン系イスラーム王朝として、ファーティマ朝が成立した。
- b アフガニスタンに成立したイスラーム王朝であるガズナ朝は、インドへの侵入をくりかえした。

(8)

- a モンゴル人のチンギス=ハンは、ホラズム=シャー朝を破った。
- b モンゴル人のバトゥは、キプチャク=ハン国を樹立し、キエフ公国を支配下においた。

(9)

- a 西チャガタイ=ハン国を倒して成立したティムール朝は、アンカラに都をおいた。
- b ティムールの子孫であるバーブルは、サファヴィー朝を樹立した。

(10)

- a モンゴル系のオイラトは、靖康の変を起こして明の皇帝を捕らえた。
- b 清の乾隆帝は、モンゴル系のジュンガルを征服し、東トルキスタンを新疆と称した。



Ⅲ 朝鮮半島近現代史に関する次の略年表を見て、(1)・(2)の問いに答えなさい。

略年表

A

1884年、朝鮮（李朝）で<sup>26</sup>甲申政変が起こる。

B

1919年、三・一独立運動が起こる。

C

1937年、<sup>27</sup>日中戦争が始まる。

D

1945年、<sup>28</sup>第二次世界大戦・太平洋戦争が終わる。

E

1950年、<sup>29</sup>朝鮮戦争が起こる。

F

1963年、朴正熙（パクチョンヒ）が<sup>30</sup>大韓民国大統領となる。

G

1997年、金正日（キムジョンイル）が、朝鮮民主主義人民共和国の朝鮮労働党総書記に就任する。

H

- (1) 次の  ～  の出来事が起こった時期は、上の略年表中のA～Hのいずれに該当するか。それぞれ①～④の中から1つずつ選びなさい。

甲午農民戦争が起こる。

- ① A                      ② B                      ③ C                      ④ D

ハーグ密使事件が起こる。

- ① A                      ② B                      ③ C                      ④ D

日本が創氏改名を開始する。

- ① C                      ② D                      ③ E                      ④ F

日韓基本条約が成立する。

- ① E                      ② F                      ③ G                      ④ H

ピョンヤンで第二次世界大戦後初の南北朝鮮首脳会談がおこなわれる。

- ① E                      ② F                      ③ G                      ④ H

(2) 次の 26 ～ 30 の問いに答えなさい。

26 下線部26についての説明として最も適切なものを、次の①～④の中から1つ選びなさい。

- ① 金玉均ら開化派が閔氏政権に反抗した。
- ② 閔氏政権が大院君を失脚させた。
- ③ 大院君派が閔氏政権に反抗した。
- ④ 大院君政権が日本の軍艦と軍事衝突した。

27 下線部27の直接のきっかけとなった事件を、次の①～④の中から1つ選びなさい。

- ① 盧溝橋事件
- ② 奉天事件
- ③ 義和団事件
- ④ 柳条湖事件

28 下線部28の最中に連合国間で開催された、以下に示す4つの会談のうち、朝鮮の独立を最初に議題にしたものを、次の①～④の中から1つ選びなさい。

- ① ポツダム会談
- ② ヤルタ会談
- ③ カイロ会談
- ④ テヘラン会談

29 下線部29をきっかけとして起こったことを、次の①～④の中から1つ選びなさい。

- ① アメリカや西ヨーロッパ諸国が北大西洋条約機構（NATO）を結成した。
- ② インドネシアのバンドンでアジア・アフリカ会議が開かれた。
- ③ サンフランシスコ講和会議が開催され、日本が主権を回復した。
- ④ アメリカ国務長官がヨーロッパ経済復興援助計画を発表した。

30 下線部30についての説明として最も適切なものを、次の①～④の中から1つ選びなさい。

- ① 初代大統領は金泳三（キムヨンサム）であった。
- ② 朴正熙（パクチョンヒ）は、光州事件を指導したあと大統領に就任した。
- ③ 21世紀最初の大統領は全斗煥（チョンドウホァン）であった。
- ④ 盧泰愚（ノテウ）は、南北朝鮮の国連加盟を実現した。



#### IV イタリアとドイツの統一について述べた次の文章を読み、(1)～(10)の問いに答えなさい。

<sup>31</sup>1848～49年に高揚した自由主義・民族主義気運の中で、イタリア、ドイツの統一を目指した動きがおこったが、いずれも失敗に終わり、のち、イタリアはサルデーニャ首相カヴール、ドイツはプロイセン首相ビスマルクの指導のもとに統一が進められることになった。カヴールは、オーストリアの支配下にある<sup>32</sup>ロンバルディア・ヴェネツィアの併合をはかり、<sup>33</sup>ナポレオン3世の支援のもと、1859年にイタリア統一戦争をおこした。この戦争では、ナポレオン3世の突然の単独講和によりロンバルディアしか得られなかったが、翌1860年には<sup>34</sup>中部イタリアの併合を実現した。同年、青年イタリア出身のガリバルディが千人隊を率いてシチリア島と南イタリアまで征服し、これらをサルデーニャ王ヴィットーリオ＝エマヌエーレ2世に献上した。こうして翌1861年、<sup>35</sup>イタリア王国が成立した。同じ1861年、北方のプロイセンでは新国王ヴィルヘルム1世が即位し、翌1862年には首相にビスマルクが就任した。ここからビスマルクの鉄血政策に基づくドイツ統一が進むことになる。彼は1864年にオーストリアを誘って<sup>36</sup>シュレスヴィヒ・ホルシュタイン両公国を奪取した。次いでこの両国の処分をめぐって1866年にはプロイセン・オーストリア戦争（普墺戦争）をおこし、オーストリアを破ってドイツ連邦を解体させ、プロイセン主導の北ドイツ連邦を築いた。敗れたオーストリアは、<sup>37</sup>オーストリア＝ハンガリー帝国を形成した。ビスマルクは次に<sup>38</sup>スペイン王位継承問題をきっかけとしてプロイセン＝フランス戦争（普仏戦争）をおこし、ナポレオン3世を破ってパリを包囲するとともに、1871年、ヴェルサイユ宮殿で<sup>39</sup>ドイツ帝国の成立を宣言した。ここに<sup>40</sup>オーストリアを排除する形でのドイツ統一が完成した。

- (1) 下線部<sup>31</sup>の際の出来事についての説明として最も適切なものを、次の①～④の中から1つ選びなさい。

31

- ① フランスでは二月革命のあと、社会主義者のルイ＝ブランが大統領に就任した。
- ② フランクフルト国民議会が開かれ、宰相メッテルニヒの罷免が決議された。
- ③ イギリスではチャーティスト運動が展開され、労働者の選挙権獲得が実現した。
- ④ ハンガリーではコシュートの指導でマジャール人の民族運動が起こった。

- (2) 下線部<sup>32</sup>に関連して、オーストリアがこの地を獲得したのはウィーン会議においてであるが、そのときオーストリアが放棄した南ネーデルラントを獲得した国を、次の①～④の中から1つ選びなさい。

32

- ① オランダ
- ② イギリス
- ③ プロイセン
- ④ スウェーデン

- (3) 下線部33を得るためにカヴールはクリミア戦争に参戦した。この戦争についての説明として最も適切なものを、次の①～④の中から1つ選びなさい。

33

- ① 聖地管理権問題を機に、オスマン帝国がロシアに宣戦して始まった。
- ② この戦争の最中、イギリス人看護師のナイティンゲールが活躍した。
- ③ イギリスはこの戦争には中立の立場を貫いた。
- ④ 講和条約であるベルリン条約で、ロシアの南下政策は抑えられた。

- (4) 下線部34の際に、サルデーニャがフランスへ割譲した地を、次の①～④の中から1つ選びなさい。

34

- ① 南チロル
- ② フィレンツェ
- ③ サヴォイア
- ④ トリエステ

- (5) 下線部35の第一次世界大戦期までの動向についての説明として最も適切なものを、次の①～④の中から1つ選びなさい。

35

- ① アフリカのジブチ・マダガスカルを領有した。
- ② 19世紀末にエチオピアへ侵攻したが、撃退された。
- ③ 20世紀初頭、オスマン帝国からボスニア・ヘルツェゴヴィナを奪った。
- ④ 第一次世界大戦ではドイツ・オーストリアとともに連合国と戦った。

- (6) 下線部36を奪われた国の名を、次の①～④の中から1つ選びなさい。

36

- ① ポーランド
- ② ロシア
- ③ デンマーク
- ④ ノルウェー

- (7) 下線部37は第一次世界大戦で敗北した。その際オーストリア・ハンガリーのそれぞれと連合国が結んだ条約の組合せとして最も適切なものを、次の①～④の中から1つ選びなさい。

37

- ① セーヴル条約 — トリアノン条約
- ② サン＝ジェルマン条約 — ヌイイ条約
- ③ セーヴル条約 — ヌイイ条約
- ④ サン＝ジェルマン条約 — トリアノン条約

- (8) 下線部38の問題とは、プロイセン王家によるスペイン王位継承にナポレオン3世が異議を唱えたことである。このプロイセン王家の名を、次の①～④の中から1つ選びなさい。

38

- ① ハノーヴァー家
- ② ヴァロワ家
- ③ ホーエンツォレルン家
- ④ ハプスブルク家



- (9) 下線部39におけるビスマルクの行動についての説明として最も適切なものを、次の①～④の中から1つ選びなさい。

39

- ① 帝国議会を設け、成年男性の普通選挙を実現した。
- ② 南ドイツのプロテスタント勢力を敵視し、闘争を繰り広げた。
- ③ 労働者に団結権・団体交渉権を認めた。
- ④ 鉄工業・農業の発展をはかって、自由貿易政策を推進した。

- (10) 下線部40に関連して、1834年に結成されたドイツ関税同盟は、すでにプロイセンがオーストリアを排除して形成したものだ。この関税同盟の結成を提唱した経済学者の名を、次の①～④の中から1つ選びなさい。

40

- ① ヘーゲル                      ② リスト                      ③ ランケ                      ④ サヴィニー

世界史の問題はここまでです

# 地 理

この問題はIからIVまであります。解答用紙には問題番号が  から  までありますが、解答に使用する問題番号は  から  までです。

I 高緯度地方を中心とする自然環境と人々の暮らしに関する  ～  に答えなさい。

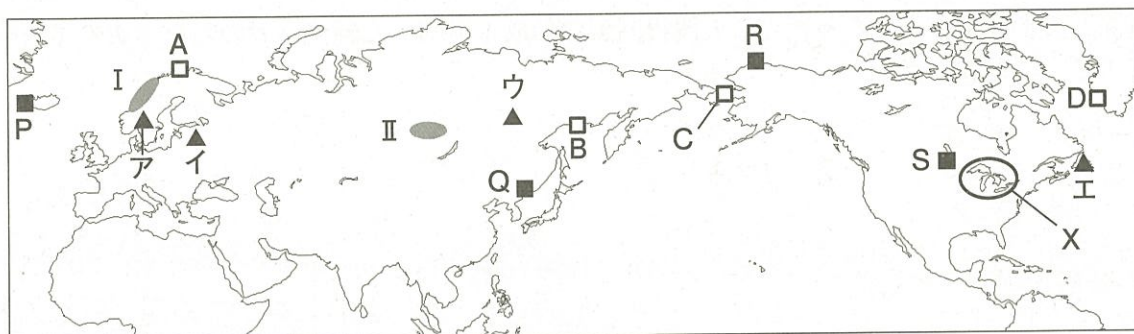


図1

図1中のXに関する説明文として最も適切なものを、次の①～④から一つ選びなさい。

- ① 氷河作用によりつくられた氷河湖である。
- ② 火山活動によりつくられたカルデラ湖である。
- ③ 断層運動によりつくられた断層湖である。
- ④ かつての海域が外海から隔てられてつくられた海跡湖である。

図1中の地域Iにみられる特徴的な地形について説明した次の文章を読み、下線部の内容が誤っているものを、文中の①～④から一つ選びなさい。

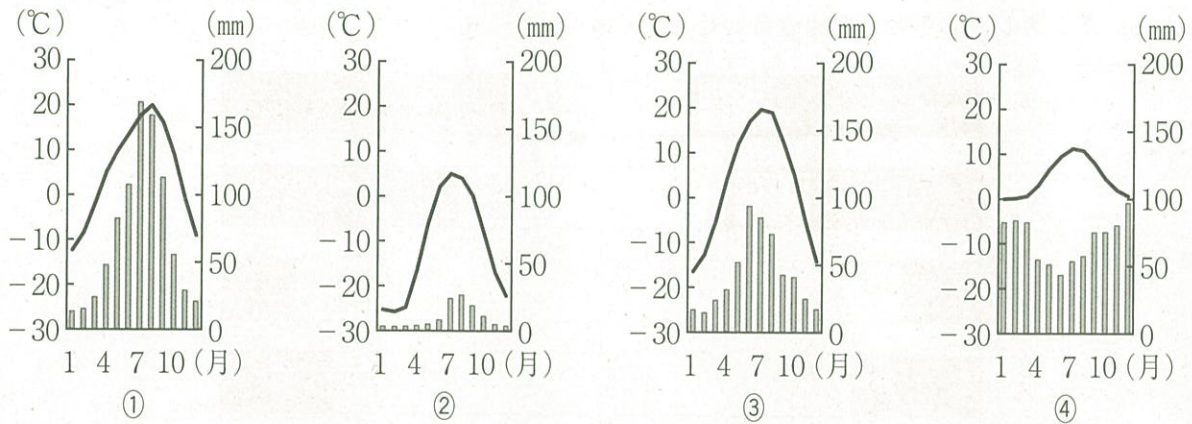
氷河により形成された ① U字谷に海水が浸入してできた細長い入り江がみられ、その ② 水深は浅い。入り江の ③ 両岸は急崖となり、平地は少ない。この地域以外では、チリ南部や ④ ニュージーランド南島などでもみられる。

図1中の地点A～Dのうち、冬季に海氷に閉ざされない不凍港が位置する地点として最も適切なものを、次の①～④から一つ選びなさい。

- ① A                      ② B                      ③ C                      ④ D



4 次の図は、図1中の地点P～Sのいずれかにおける雨温図を示したものである。地点Sに該当するものを、次の①～④から一つ選びなさい。



理科年表（平成30年）により作成

5 ケッペンによる亜寒帯（冷帯）や寒帯の気候区分布に関する説明文として最も適切なものを、次の①～④から一つ選びなさい。

- ① 亜寒帯湿潤気候は、ユーラシア大陸と北アメリカ大陸、アフリカ大陸に広く分布する。
- ② 亜寒帯冬季少雨気候は、ユーラシア大陸北東部に広く分布する。
- ③ ツンドラ気候は、南極大陸に広く分布する。
- ④ 氷雪気候は、グリーンランドやユーラシア大陸内陸部に広く分布する。

6 図1中の地点ア～エのうち、永久凍土が広く分布する地点として最も適切なものを、次の①～④から一つ選びなさい。

- ① ア                      ② イ                      ③ ウ                      ④ エ

7 図1中の地域Ⅱに広くみられる植生と土壌に関する説明文として最も適切なものを、次の①～④から一つ選びなさい。

- ① 樹木は生育せず短草草原が広がり、厚い腐植層をもつ黒色の土壌がみられる。
- ② 樹高の高い広葉樹林が広がり、鉄分などを多く含む赤色の土壌がみられる。
- ③ 針葉樹と広葉樹からなる混合林が広がり、比較的厚い腐植層を含む土壌がみられる。
- ④ 樹種が少ない針葉樹林が広がり、灰白色の酸性土壌がみられる。





12 高緯度地方の環境問題に関する説明文として最も適切なものを、次の①～④から一つ選びなさい。

- ① 寒冷な気候のため、地球温暖化の進行による気温の変化は、低緯度地方に比べて小さい傾向にある。
- ② ロシアやカナダでは、大豆畑の拡大や肉牛の牧場開発などにより、森林伐採が続いている。
- ③ グリーンランドでは、偏西風により北アメリカ大陸から汚染物質が運ばれ、酸性雨の被害が深刻な問題となっている。
- ④ オゾンホールが出現し、紫外線量の増加による健康被害が懸念される。

Ⅱ 工業立地と工業地域の変容に関する 13 ～ 23 に答えなさい。

13 工業立地に関する説明文として最も適切なものを、次の①～④から一つ選びなさい。

- ① 鉄鋼業は、労働集約的な工業であるため、安価な労働力が得られる地域に立地することが多い。
- ② 出版・印刷業は、市場の変化に敏感な工業であるため、情報が集まる大都市に立地することが多い。
- ③ 紙・パルプ工業は、製品が原料より重いため、市場近くに立地することが多い。
- ④ 清涼飲料水工業は、原料が製品より重いため、原料産地に立地することが多い。

14 次の図1は、ある工業の工場所在地を示したものである。この図に示された工業に該当するものを、下の①～④から一つ選びなさい。



2018年4月1日現在。日本国勢図会2018/19ほかにより作成

図1

- ① 電気機械工業
- ② セメント工業
- ③ 半導体工業
- ④ アルミニウム（精錬）工業

15 世界の工業の変容について説明した次の文A、Bの正誤の組み合わせとして最も適切なものを、下の①～④から一つ選びなさい。

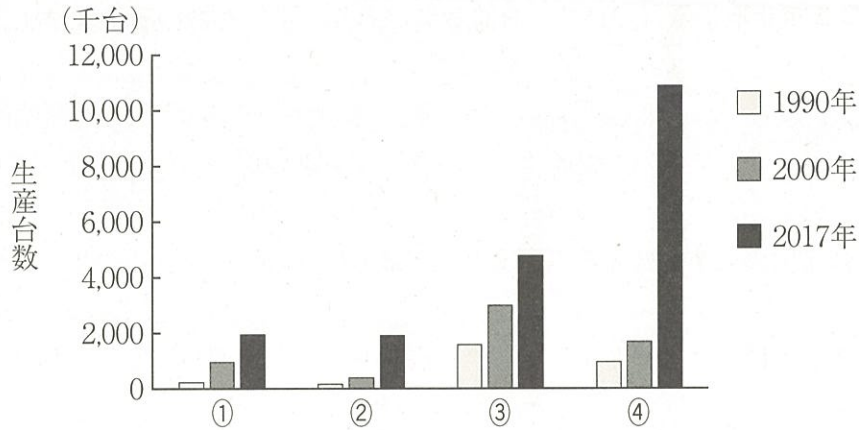
- A 貿易摩擦や為替変動のリスクを避けるため、国際分業は縮小する傾向にある。
- B 東南アジア諸国は、従来の輸出指向型工業から輸入代替型工業への転換を進めた。

- ① A - 正 B - 正
- ② A - 正 B - 誤
- ③ A - 誤 B - 正
- ④ A - 誤 B - 誤





20 次の図2は、アジア、ヨーロッパ、北アメリカ、中南アメリカにおける日本の自動車メーカーの生産台数の推移を示したものである。北アメリカに該当するものを、図中の①～④から一つ選びなさい。



ヨーロッパにはトルコ、中南アメリカにはメキシコを含む。  
日本国勢図会2018/19により作成

図2

21 工業の知識集約化や知的財産権に関する説明文として最も適切なものを、次の①～④から一つ選びなさい。

- ① 先進国の工業は、知識により利益を生み出す知識産業へ転換しつつある。
- ② 発展途上国は、GDPに占める研究開発費の割合が先進国より高い傾向にある。
- ③ 中国の2016年における知的財産使用料の受取額は、世界で最も大きい。
- ④ アメリカ合衆国の2016年における知的財産使用料は、受取額より支払額のほうが大きい。

22 日本の工業の変容に関する説明文として最も適切なものを、次の①～④から一つ選びなさい。

- ① 1960年代には、高度経済成長による人件費の高騰から、国内企業の生産拠点が海外に移転する産業の空洞化が問題となった。
- ② 1970年代には、石油危機により鉄鋼などの素材型工業が停滞し、自動車や電気機械などの機械工業が基幹産業となった。
- ③ 1980年代には、円高により繊維工業や電気機械工業など海外に進出した企業が、生産拠点を国内へ移す動きが強まった。
- ④ 1990年代には、太平洋ベルトに鉄鋼一貫製鉄所や石油化学コンビナートが次々とつくられた。



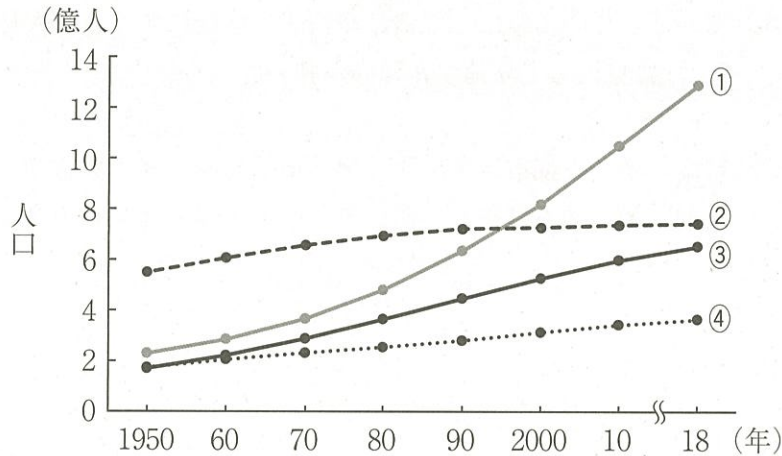
- 23 日本工業の新たな取り組みについて説明した次の文章中の空欄ア、イに当てはまる語句の組み合わせとして最も適切なものを、下の①～④から一つ選びなさい。

今日の日本では、アニメやゲームソフトなどを制作する（ア）が国際的に競争力のある産業として注目されている。この産業は、創造性や技能、才能にすぐれた人材を確保することが重要であり、（イ）に集積して立地する傾向が強い。

- ① ア コンテンツ産業 イ 大都市      ② ア ICT産業 イ 大都市  
③ ア コンテンツ産業 イ 地方都市      ④ ア ICT産業 イ 地方都市

Ⅲ 世界の人口問題に関する 24 ～ 34 に答えなさい。

24 次の図1は、アフリカ、ヨーロッパ、北アメリカ、ラテンアメリカの人口推移を示したものである。アフリカに該当するものを、図中の①～④から一つ選びなさい。



北アメリカは、アメリカ合衆国とカナダ。ラテンアメリカは、カリブ海諸国、中央アメリカおよび南アメリカ。2018年は推計値。

世界国勢図会2018/19により作成

図1

25 人口に関する説明文として最も適切なものを、次の①～④から一つ選びなさい。

- ① 人口爆発は、医療の普及などにより、乳児死亡率と出生率が低下することで起こる。
- ② エクメーネは、未開地の開拓により拡大し、現在では全陸地面積の約9割を占める。
- ③ 一国における人口増加は、自然増加と社会増加の差で示すことができる。
- ④ 合計特殊出生率は、多産多死から多産少死の段階に変化すると著しく低下する。

26 次の表1は、4か国の人口密度と人口増加率を示したものであり、表中のa～dは、日本、インド、ロシア、オーストラリアのいずれかである。表中のa、cに該当する国名の組み合わせとして最も適切なものを、下の①～④から一つ選びなさい。

表1

国	人口密度 (人/km <sup>2</sup> )	人口増加率 (%)
a	8.8	0.10
b	3.1	1.46
c	440.3	1.23
d	351.0	-0.09

統計年次は、人口密度が2015年、人口増加率が2010～2015年の平均増加率。

World Population Prospectsにより作成

- ① a オーストラリア c インド      ② a ロシア c インド
- ③ a オーストラリア c 日本        ④ a ロシア c 日本



27 現在のアメリカ合衆国の人口ピラミッドの形状とその説明の組み合わせとして最も適切なものを、次の表2中の①～④から一つ選びなさい。

表2

	人口ピラミッドの形状	説明
①	つりがね型	少子高齢化が進み、人口が減少している。
②	つりがね型	生産年齢人口の比率が比較的高い。
③	つぼ型	少子高齢化が進み、人口が減少している。
④	つぼ型	生産年齢人口の比率が比較的高い。

28 人口の国際的な移動に関する説明文として最も適切なものを、次の①～④から一つ選びなさい。

- ① 中国では、経済成長により、華僑とよばれる東南アジアからの移民が増加した。
- ② オーストラリアでは、白豪主義の撤廃後、主にアジア諸国からの移民が増加した。
- ③ 日本は、19世紀末から、主にイギリスやフランスに移民を送り出してきた。
- ④ インドは、プランテーション労働力として、主にフランス植民地に移民を送り出してきた。

29 次の図2は、アメリカ合衆国、ドイツにおける国際移住者の出身国の割合(%)を示したものである。図中のX、Yに該当する国名の組み合わせとして最も適切なものを、下の①～④から一つ選びなさい。

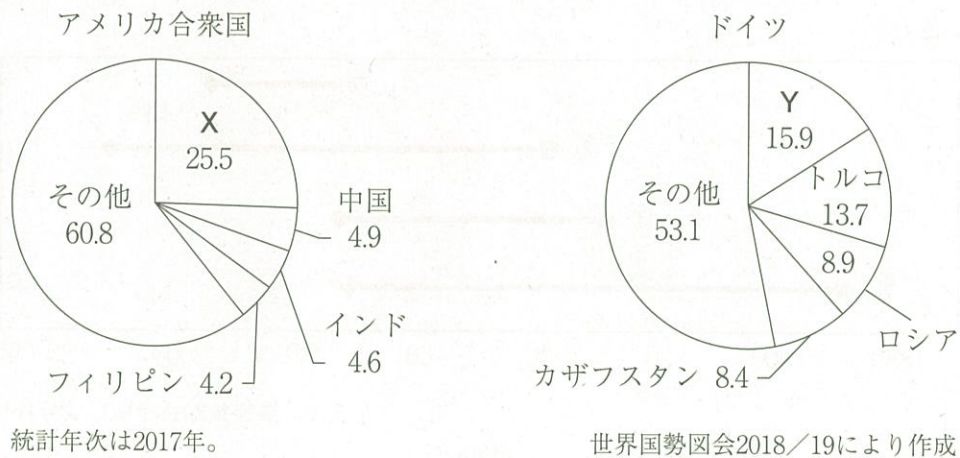


図2

- ① X ブラジル Y デンマーク
- ② X メキシコ Y デンマーク
- ③ X ブラジル Y ポーランド
- ④ X メキシコ Y ポーランド

30 人口問題について説明した次の文A, Bに該当する国名の組み合わせとして最も適切なものを, 下の①~④から一つ選びなさい。

A 1970年代末から厳しい人口抑制政策が実施され, 出生率が低下した。しかし, 急速な高齢化に対応するため, 近年, 人口抑制政策を廃止した。

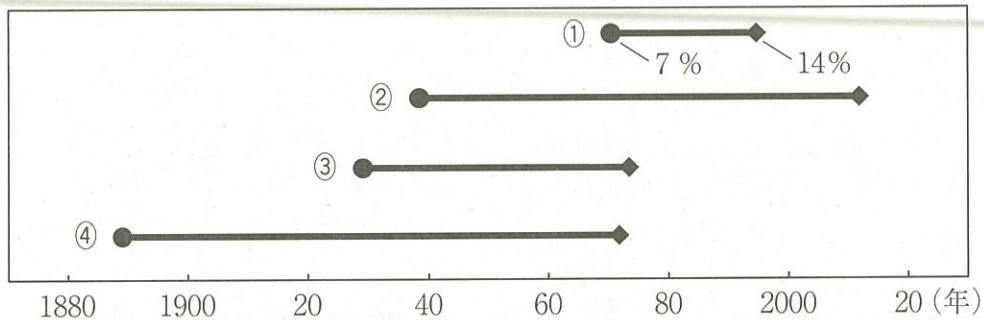
B 合計特殊出生率は, 1990年代まで低下傾向であったが, 近年は保育施設や育児休業制度などの充実により2.0程度まで回復している。

- ① A 中国 B フランス
- ② A インド B フランス
- ③ A 中国 B イタリア
- ④ A インド B イタリア

31 世界の人口問題に関する説明文として最も適切なものを, 次の①~④から一つ選びなさい。

- ① 女性の識字率が低い国は, 合計特殊出生率が低下する傾向にある。
- ② アフリカ北部では HIV 感染者が多く, エイズが死亡率を高める要因になっている。
- ③ 多くの発展途上国では, 子どもが生計を支える大切な労働力であるため, 多産傾向にある。
- ④ 発展途上国における人口急増の背景には, 人口増加につながる家族計画の普及が挙げられる。

32 次の図3は, 日本, イギリス, スウェーデン, オーストラリアの65歳以上の人口割合が7%, 14%に達した年次を示したものである。日本に該当するものを, 図中の①~④から一つ選びなさい。



人口統計資料集2018年版により作成

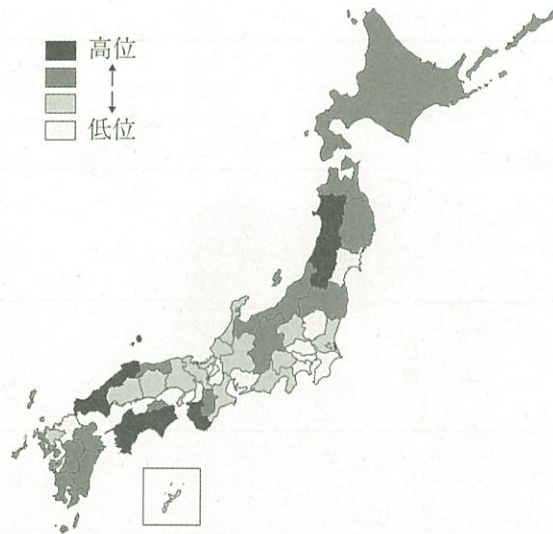
図3

33 日本における少子化に関する説明文として最も適切なものを, 次の①~④から一つ選びなさい。

- ① 少子化の背景として, 晩婚化や非婚化の進行, 離婚率の上昇などが挙げられる。
- ② ワークライフバランスの実現は, 合計特殊出生率の低下につながる恐れがある。
- ③ 少子化対策として, 高齢者福祉に比べ, 子どもや教育への財政支出が多くなっている。
- ④ 男女ともに労働時間を増加させ所得を増やすことが, 少子化対策に重要である。



34 次の図4は、人口に関するある数値を都道府県別に高位から低位に区分して示したものである。この図が示す数値に該当するものを、下の①～④から一つ選びなさい。



統計年次は2017年。日本国勢図会2018/19により作成

図4

- |           |          |
|-----------|----------|
| ① 昼夜間人口比率 | ② 人口増加率  |
| ③ 老年人口率   | ④ 在留外国人数 |

Ⅳ 次の図1に示された西アジア・中央アジアに関する 35 ~ 45 に答えなさい。

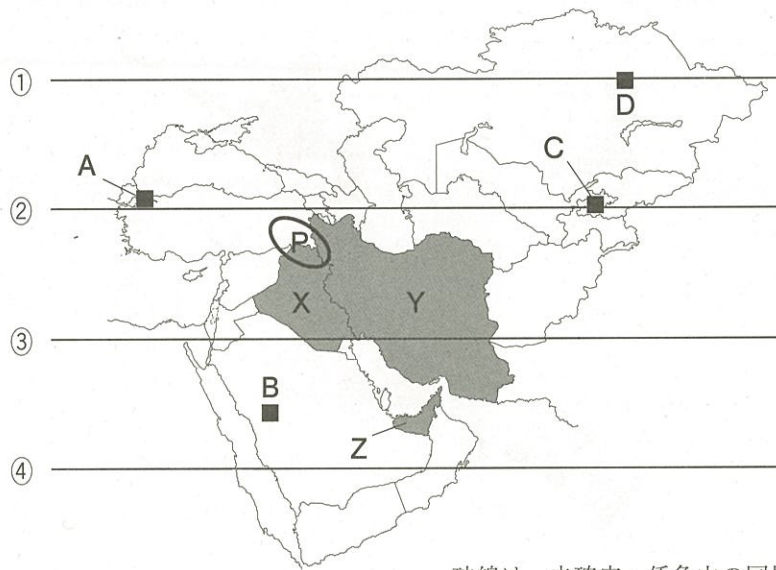
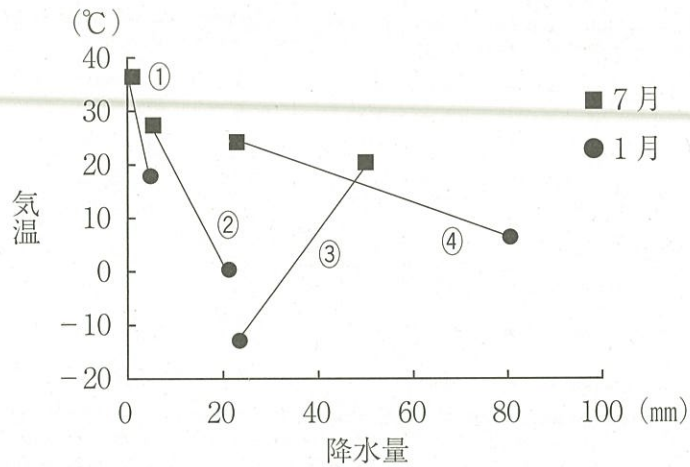


図1

35 図1中の緯線①～④のうち、北緯40度に該当するものを一つ選びなさい。

36 次の図2は、図1中の地点A～Dの1月と7月の月平均気温と月降水量を示したものである。地点Aに該当するものを、図2中の①～④から一つ選びなさい。



理科年表（平成30年）により作成

図2

37 図1中のX国北部からY国にかけて広く分布する地形についての説明文として最も適切なものを、次の①～④から一つ選びなさい。

- ① 安定陸塊に位置し、台地状の平坦な地形が広がっている。
- ② 古期造山帯に位置し、なだらかな山脈がみられる。
- ③ 新期造山帯に位置し、高原や険しい山脈がみられ地震が頻発する。
- ④ ホットスポットに位置し、活発な火山活動がみられる。



38 図 1 中の X 国と Y 国に関する説明文として最も適切なものを、次の①～④から一つ選びなさい。

- ① 両国とも、2015年の最大の輸出相手国はアメリカ合衆国である。
- ② 両国ともイスラム教を信仰するが、X国はシーア派、Y国はスンナ派が多数を占める。
- ③ X国はアラビア語が公用語だが、Y国はペルシャ語が公用語となっている。
- ④ X国は OPEC に加盟しており、Y国は OAPEC に加盟している。

39 図 1 中の X 国における主要な農牧業に関する説明文として最も適切なものを、次の①～④から一つ選びなさい。

- ① 肥沃なテラローシャが分布し、コーヒー栽培が盛んである。
- ② 外来河川の水が灌漑用水として利用され、小麦などの穀倉地帯となっている。
- ③ 山麓の帯水層からカナートで水を引いて、オアシス農業が行われている。
- ④ 肥沃な沖積平野が広がり、大型機械を用いた企業的穀物農業地帯となっている。

40 図 1 中の Z 国の人口に関する説明文として最も適切なものを、次の①～④から一つ選びなさい。

- ① 出生率と死亡率がともに高いため、富士山型の人口ピラミッドになっている。
- ② 少子高齢化が進行し、年少人口よりも老年人口の割合が高い。
- ③ 内戦が長く続いているため、国外へ避難する難民が多く発生し人口流出が多い。
- ④ 男性の外国人労働者が多いため、生産年齢人口は女性よりも男性の比率が高い。

41 図 1 中の地域 P 付近に居住し、独自の国家建設を目指している民族として最も適切なものを、次の①～④から一つ選びなさい。

- ① バスク人                      ② クルド人                      ③ チェチェン人                      ④ ベルベル人

- 42 次の表1は、原油、ウランの産出量上位4か国と世界産出量に占める割合(%)を示したものである。表中のa、bに該当する国名の組み合わせとして最も適切なものを、次の①～④から一つ選びなさい。

表1

	原油		ウラン	
1位	ロシア	14.0	b	39.4
2位	a	12.7	カナダ	22.5
3位	アメリカ合衆国	11.9	オーストラリア	10.1
4位	イラク	5.7	ナミビア	5.9

統計年次は、原油が2017年、ウランが2016年。

世界国勢図会2018/19により作成

- ① a サウジアラビア    b カザフスタン  
 ② a サウジアラビア    b ウズベキスタン  
 ③ a アラブ首長国連邦    b カザフスタン  
 ④ a アラブ首長国連邦    b ウズベキスタン
- 43 次の説明文に該当する西アジアの都市として最も適切なものを、次の①～④から一つ選びなさい。

説明文：

石油依存からの脱却をはかるため、世界一の高さを誇るビルや、やしの木型の人工島の建設など観光開発が進められている。また、この都市の空港は、中東地域のハブ空港としての機能を持っている。


- ① テヘラン                      ② ドバイ                      ③ ベイルート                      ④ バグダッド
- 44 アラル海における環境問題とその原因との組み合わせとして最も適切なものを、次の表2中の①～④から一つ選びなさい。

表2

	環境問題	原因
①	水質汚濁	周辺地域の人口が急増し、生活排水が流入した。
②	水質汚濁	周辺地域の工業開発が進み、工業排水が流入した。
③	面積の縮小	綿花栽培のため、流入河川から灌漑をおこなった。
④	面積の縮小	肉牛の飼育のため、流入河川から灌漑をおこなった。



- 45 次の図3は、日本の液化天然ガスの輸入相手国と輸入額に占める割合（％）を示したものである。図中のQに該当する国名を、下の①～④から一つ選びなさい。



統計年次は2017年。日本国勢図会2018/19により作成

図3

- |            |         |
|------------|---------|
| ① トルクメニスタン | ② クウェート |
| ③ キルギス     | ④ カタール  |

地理の問題はここまでです

# 数 学

## 解答にあたっての注意

次の  $\boxed{1}$  ~  $\boxed{50}$  の1つ1つには、0から9までの数字または負の符号-のいずれかが入る。それらを解答用紙の  $\boxed{1}$  ~  $\boxed{50}$  にマークして答えなさい。ただし、分数はすべて既約分数で答え、負の分数のときは符号を分子につけなさい。また、根号の中の数は最も小さい自然数を用いて答えなさい。

### I

(1) 連立不等式  $\begin{cases} x^2 - 6x + 5 < 0 \\ -x^2 + 9x - 18 > 0 \end{cases}$  の解は  $\boxed{1} < x < \boxed{2}$  である。

(2)  $y = \sin 2x$  のグラフを  $x$  軸方向に  $a$  ( $0 < a < \pi$ ) だけ平行移動すると

$$y = \frac{1}{2} \sin 2x - \frac{\sqrt{3}}{2} \cos 2x \text{ のグラフになった。このとき、} a = \frac{\pi}{\boxed{3}} \text{ である。}$$

(3) 1個のさいころを3回投げたとき、出た目の和が15以下になる確率は

4	5	6
7	8	9

である。

(4)  $a$  を実数の定数とする。空間上の4点  $A(0, -1, 2)$ ,  $B(-2, 1, 2)$ ,

$C(1, 2, -3)$ ,  $D(1, 10, a)$  が同一平面上に存在するとき、 $a = \boxed{10} \boxed{11} \boxed{12}$  である。

(5)  $(\sqrt[3]{81} - \sqrt[3]{3})^3 (\sqrt[3]{3} - \sqrt[3]{2}) (\sqrt[3]{9} + \sqrt[3]{6} + \sqrt[3]{4}) = \boxed{13} \boxed{14}$



計算用紙

II 数列  $\{a_n\}$  を以下のように定義する。

$$a_1 = a_2 = 1$$

$$a_{n+2} = 6a_{n+1} - 9a_n \quad (n = 1, 2, 3, \dots)$$

(1)  $\alpha, \beta$  を定数として,  $b_n = a_{n+1} - \alpha a_n$  とおくと,  $b_{n+1} = \beta b_n$  が成り立つ。

このとき,  $\alpha + \beta = \boxed{15}$ ,  $\alpha\beta = \boxed{16}$  であるから,  $\alpha = \boxed{17}$ ,  $\beta = \boxed{18}$  である。

(2) (1) より, 数列  $\{b_n\}$  の一般項は  $b_n = \boxed{19} \boxed{20} \cdot \boxed{21}^{n-1}$  であるから,

数列  $\{a_n\}$  の一般項は  $a_n = (\boxed{22} - \boxed{23}n) \cdot \boxed{24}^{n-2}$  である。



計算用紙

Ⅲ 放物線  $y = \frac{1}{4}x^2$  を  $C$  とする。  $C$  上の点  $A\left(-t, \frac{1}{4}t^2\right)$  ( $t > 0$ ) における接線に直交し、点  $A$  を通る直線を  $m$  とする。

(1)  $m$  の方程式は  $y = \frac{\boxed{25}}{t}x + \frac{t\boxed{26}}{\boxed{27}} + \boxed{28}$  である。

(2)  $C$  と  $m$  の点  $A$  以外の交点  $B$  の  $x$  座標は  $\frac{t\boxed{29} + \boxed{30}}{t}$  である。

(3) 点  $B$  の  $x$  座標は、 $t = \boxed{31}\sqrt{\boxed{32}}$  のとき最小値をとり、その最小値は  $\boxed{33}\sqrt{\boxed{34}}$  である。

(4) (3) のとき、 $C$  と  $m$  で囲まれた図形の面積は  $\boxed{35}\boxed{36}\sqrt{\boxed{37}}$  である。



計算用紙

IV 放物線  $y = -x^2 + 2$  を  $C$  とし、直線  $y = x$  を  $l$  とする。

(1) 放物線  $C$  と直線  $l$  との交点を  $A, B$  とするとき、 $A(\boxed{38} \mid \boxed{39}, \boxed{38} \mid \boxed{39})$ ,  
 $B(\boxed{40}, \boxed{40})$  である。

(2) 直線  $y = x + k$  を  $m$  とする。放物線  $C$  と直線  $m$  が接するとき、定数  $k$  の値は  $\frac{\boxed{41}}{\boxed{42}}$   
 であり、このときの接点の座標は  $(\frac{\boxed{43} \mid \boxed{44}}{\boxed{45}}, \frac{\boxed{46}}{\boxed{47}})$  である。

(3) 動点  $P$  が放物線  $C$  上を  $A$  から  $B$  まで移動するとき、3点  $P, A, B$  を結んでできる  $\triangle PAB$   
 の面積の最大値は  $\frac{\boxed{48} \mid \boxed{49}}{\boxed{50}}$  である。

数学の問題はここまでです



計算用紙